

ბილეთი N: 3; სწორი პასუხი:1



რომელი სატრანსპორტო საშუალების მძღოლს შეუძლია გააგრძელოს მოძრაობა ისრის მიმართულებით, შექნიშნის ამ სიგნალზე?


1

მსუბუქი ავტომობილის მძღოლს

2

მოტოციკლის მძღოლს

ბილეთი N: 8; სწორი პასუხი:1



რომელი სატრანსპორტო საშუალების მძღოლს ენიჭება უპირატესობა ისრის მიმართულებით მოძრაობის შემთხვევაში?

1

მოტოციკლის მძღოლს

2

მსუბუქი ავტომობილის მძღოლს

ბილეთი N: 12; სწორი პასუხი:1



რომელი სატრანსპორტო საშუალების მძღოლს წარმოეჩნება გზის დათმობის ვალდებულება ისრის მიმართულებით მოძრაობის შემთხვევაში?


1

მსუბუქი ავტომობილის მძღოლს

2

მოტოციკლის მძღოლს


ბილეთი N: 20; სწორი პასუხი:4



რომელი სატრანსპორტო საშუალების მძღოლია ვალდებული, ისრის მიმართულებით მოძრაობის შემთხვევაში გზა დაუთმოს ქვეითებს?

- | | |
|--------------------------------------|---|
| 1 მხოლოდ სატვირთო ავტომობილის მძღოლი | 2 მხოლოდ მსუბუქი ავტომობილის მძღოლი |
| 3 მხოლოდ მოტოციკლის მძღოლი | 4 სამივე სატრანსპორტო საშუალების მძღოლი |

ბილეთი N: 30; სწორი პასუხი:1



რა თანამიმდევრობით უნდა გაიარონ გზაჯვარედინი სატრანსპორტო საშუალებებმა ისრის მიმართულებით მოძრაობის შემთხვევაში?

- | | |
|--|--|
| 1 ჯერ უნდა გაიაროს ტრამვაიმ, შემდეგ - მსუბუქმა ავტომობილმა, ბოლოს - მотოციკლმა | 2 ჯერ უნდა გაიაროს მსუბუქმა ავტომობილმა, შემდეგ - ტრამვაიმ, ბოლოს - მотოციკლმა |
| 3 ჯერ უნდა გაიაროს მотოციკლმა, შემდეგ - ტრამვაიმ, ბოლოს - მსუბუქმა ავტომობილმა | |


ბილეთი N: 33; სწორი პასუხი:3



რომელი სატრანსპორტო საშუალების მძღოლს ეკრძალება ისრის მიმართულებით მოძრაობა მარეგულირებლის ამ სიგნალზე?

- | | |
|------------------------------|--------------------|
| 1 მოტოციკლის მძღოლს | 2 ავტობუსის მძღოლს |
| 3 მსუბუქი ავტომობილის მძღოლს | |


ბილეთი N: 44; სწორი პასუხი:3



რომელი სატრანსპორტო საშუალების მძღოლი დაარღვევს საგზაო მოძრაობის წესებს ისრის მიმართულებით მოძრაობის შემთხვევაში მარეგულირებლის ამ სიგნალზე?

- | | |
|--|--|
| 1 მხოლოდ ტრამვაისა და მოტოციკლის მძღოლები | 2 მხოლოდ ტრამვაისა და მსუბუქი ავტომობილის მძღოლები |
| 3 მხოლოდ მსუბუქი ავტომობილისა და მოტოციკლის მძღოლები | |

ბილეთი N: 59; სწორი პასუხი:3



რომელი საგზაო მოძრაობის მონაწილეს შიშართ წარმოექმნება გზის დათმობის ვალდებულება მსუბუქი ავტომობილის მძღოლის ისრის მიმართულებით მოძრაობის შემთხვევაში:

- | | |
|---|-------------------------|
| 1 მხოლოდ მოტოციკლის მძღოლის მიმართ | 2 მხოლოდ ქვეითის მიმართ |
| 3 როგორც მოტოციკლის მძღოლის, ასევე ქვეითის მიმართ | |

ბილეთი N: 70; სწორი პასუხი:2



რომელი სატრანსპორტო საშუალების მძღოლს წარმოეჩნება გზის დათმობის ვალდებულება ისრის მიმართულებით მოძრაობის შემთხვევაში?

1

ყვითელი ავტომობილის მძღოლს

2

მოტოციკლის მძღოლს


ბილეთი N: 71; სწორი პასუხი:3



რა თანამიმდევრობით უნდა გაიარონ გზაჯვარედინი სატრანსპორტო საშუალებებმა ისრის მიმართულებით მოძრაობის შემთხვევაში?

- | | |
|--|--|
| <p>1 ჯერ უნდა გაიაროს მსუბუქმა ავტომობილმა, შემდეგ - მტოციკლმა და ბოლოს - სატვირთო ავტომობილმა</p> | <p>2 ჯერ უნდა გაიაროს სატვირთო ავტომობილმა, შემდეგ - მსუბუქმა ავტომობილმა და ბოლოს - მტოციკლმა</p> |
| <p>3 ჯერ უნდა გაიაროს მტოციკლმა, შემდეგ - მსუბუქმა და სატვირთო ავტომობილებმა</p> | |


ბილეთი N: 80; სწორი პასუხი:1



რა თანამიმდევრობით უნდა გაიარონ გზაჯვარედინი სატრანსპორტო საშუალებებმა ისრის მიმართულებით მოძრაობის შემთხვევაში?

- | | |
|--|--|
| <p>1 ჯერ უნდა გაიაროს ყვითელმა ავტომობილმა, შემდეგ - მოტოციკლმა, ბოლოს - წითელმა ავტომობილმა</p> | <p>2 ჯერ უნდა გაიაროს ყვითელმა ავტომობილმა, შემდეგ - წითელმა ავტომობილმა, ბოლოს - მოტოციკლმა</p> |
| <p>3 ჯერ უნდა გაიაროს მოტოციკლმა, შემდეგ - ყვითელმა ავტომობილმა, ბოლოს - წითელმა ავტომობილმა</p> | |

ბილეთი N: 86; სწორი პასუხი:1



რომელი სატრანსპორტო საშუალების მძღოლის მიმართ წარმოექმნება გზის დათმობის ვალდებულება მოტოციკლის მძღოლს ისრის მიმართულებით მოძრაობის შემთხვევაში?

- | | |
|---|--|
| 1 მხოლოდ მსუბუქი ავტომობილის მძღოლის მიმართ | 2 მხოლოდ სატვირთო ავტომობილის მძღოლის მიმართ |
| 3 როგორც მსუბუქი, ასევე სატვირთო ავტომობილების მძღოლების მიმართ | |


ბილეთი N: 90; სწორი პასუხი:3



რა თანამიმდევრობით უნდა გაიარონ გზაჯვარედინი სატრანსპორტო საშუალებებმა ისრის მიმართულებით მოძრაობის შემთხვევაში?

- | | |
|--|--|
| 1 ჯერ უნდა გაიაროს მსუბუქმა ავტომობილმა, შემდეგ - მოტოციკლმა, ბოლოს - სატვირთო ავტომობილმა | 2 ჯერ უნდა გაიაროს სატვირთო ავტომობილმა, შემდეგ - მოტოციკლმა, ბოლოს - მსუბუქმა ავტომობილმა |
| 3 ჯერ უნდა გაიაროს მოტოციკლმა, შემდეგ - მსუბუქმა ავტომობილმა, ბოლოს - სატვირთო ავტომობილმა | 4 |

ბილეთი N: 96; სწორი პასუხი:2



რომელი სატრანსპორტო საშუალების მძღოლს ენიჭება უპირატესობა ისრის მიმართულებით მოძრაობის შემთხვევაში?

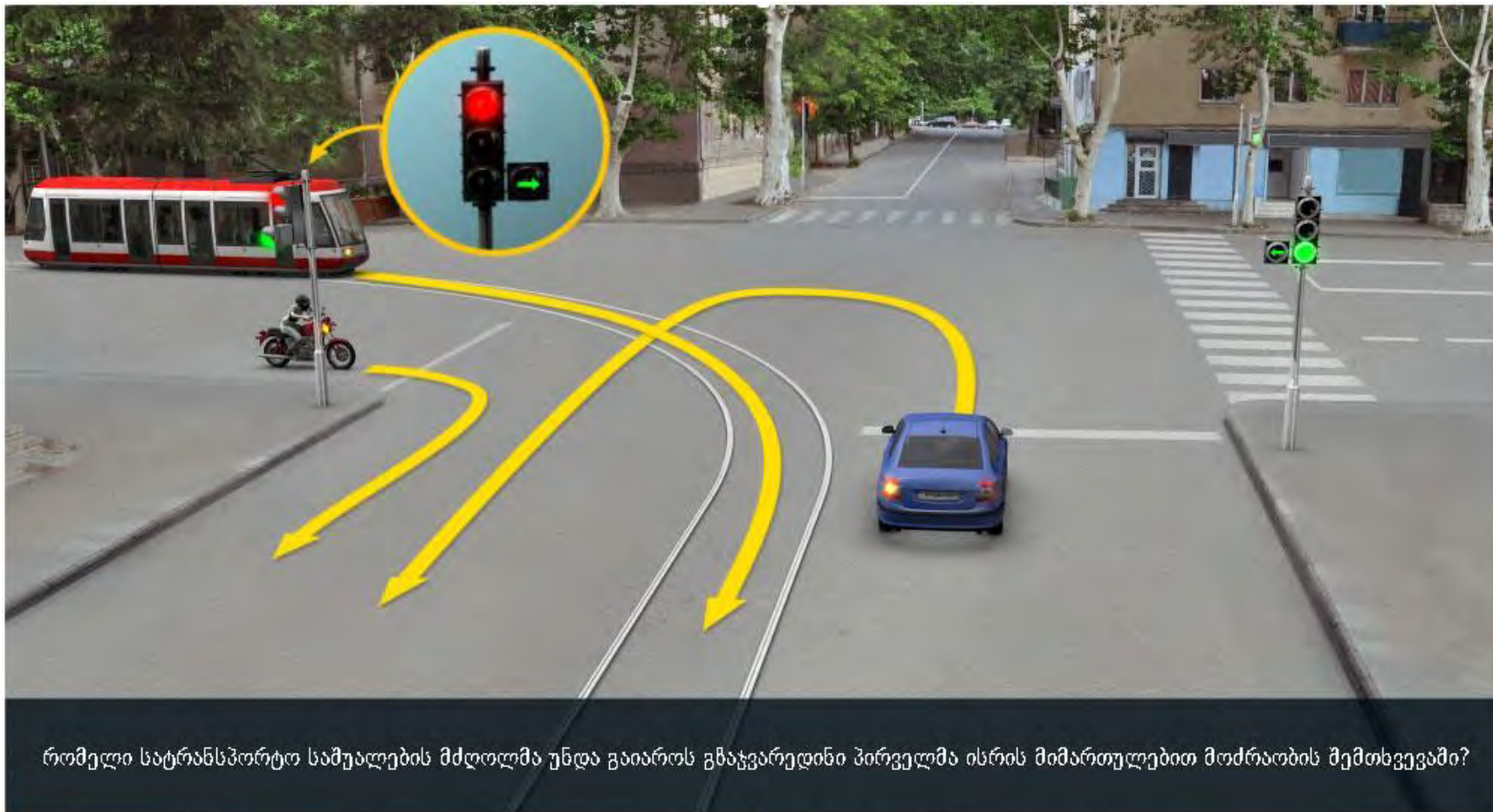
1

მსუბუქი ავტომობილის მძღოლს

2

ტრამვაის მძღოლს

ბილეთი N: 108; სწორი პასუხი:1



რომელი სატრანსპორტო საშუალების მძღოლმა უნდა გაიაროს გზაჯვარედინი პირველმა ისრის მიმართულებით მოძრაობის შემთხვევაში?


1

მსუბუქი ავტომობილის მძღოლმა

2


ტრამვაისა და მოტოციკლის მძღოლებმა

ბილეთი N: 129; სწორი პასუხი:1



რომელი სატრანსპორტო საშუალების მიმართ სარგებლობს უპირატესობით მსუბუქი ავტომობილის მძღოლი, ისრის მიმართულებით მოძრაობის შემთხვევაში:


- | | |
|---|-------------------------------------|
| 1 მხოლოდ მოტოციკლის მიმართ | 2 მხოლოდ ყვითელი ავტომობილის მიმართ |
| 3 როგორც მოტოციკლის, ასევე ყვითელი ავტომობილის მიმართ | |



რომელი სატრანსპორტო საშუალების მძღოლის მიმართ წარმოიქმნება გზის დათმობის ვალდებულება თეთრი მსუბუქი ავტომობილის მძღოლს ისრის მიმართულებით მოძრაობის შემთხვევაში?

- | | |
|---|---------------------------------|
| 1 მხოლოდ მოტოციკლის მძღოლის მიმართ | 2 მხოლოდ ტრამვას მძღოლის მიმართ |
| 3 როგორც მოტოციკლის მძღოლის, ასევე ტრამვას მძღოლის მიმართ | |


ბილეთი N: 142; სწორი პასუხი:2



მსუბუქი ავტომობილის მძღოლს უფლება აქვს გააგრძელოს მოძრაობა:

1 A მიმართულებით	2 B მიმართულებით
3 როგორც A, ასევე B მიმართულებით	


ბილეთი N: 148; სწორი პასუხი:3



რომელი მიმართულებით შეუძლია წითელი ავტომობილის მძღველს გააგრძელოს მოძრაობა შექნიმნის ამ სიგნალზე?

- | | |
|-------------------------------|---------------------------|
| 1 მხოლოდ პირდაპირ და მარცხნივ | 2 მხოლოდ მარჯვნივ |
| 3 მხოლოდ პირდაპირ და მარჯვნივ | 4 ნებისმიერი მიმართულებით |

ბილეთი N: 149; სწორი პასუხი:4



რომელი მიმართულებით შეუძლია ლურჯი ავტომობილის მძღოლს, გააგრძელოს მოძრაობა შექნიშნის ამ სიგნალზე?

- | | |
|-------------------------------|--|
| 1 მხოლოდ პირდაპირ და მარცხნივ | 2 მხოლოდ მარჯვნივ |
| 3 მხოლოდ პირდაპირ და მარჯვნივ | 4 მხოლოდ პირდაპირ, მარცხნივ და უკუმიმართულებით (მოზრუნება) |

ბილეთი N: 158; სწორი პასუხი:2



აქვს თუ არა უფლება მსუბუქი ავტომობილის მძღოლს გააგრძელოს მოძრაობა ისრის მიმართულებით?

- 1 არ აქვს უფლება
- 2 აქვს უფლება

რკინიგზის გადასასვლელებზე, შექნიმნის წითელ მოციმციმე შამუქ სიგნალთან ერთად მიცემული ხმოვანი სიგნალი, მოძრაობის მონაწილეებს დამატებით აწვდის ინფორმაციას:

1

გადასასვლელებზე მოძრაობის აკრძალვის შესახებ

2

გადასასვლელებზე მოძრაობის გაგრძელების უფლების შესახებ




ბილეთი N: 165; სწორი პასუხი:2



რომელი ავტომობილის მძღოლს ევრძალება ისრის მიმართულებით მოძრაობა?

- | | |
|-----------------------------------|-------------------------------------|
| 1 მხოლოდ ლურჯი ავტომობილის მძღოლს | 2 მხოლოდ ყვითელი ავტომობილის მძღოლს |
| 3 ორივე ავტომობილის მძღოლს | 4 არცერთი ავტომობილის მძღოლს |

ბილეთი N: 166; სწორი პასუხი:4



მოცემულ სიტუაციაში ავტომობილის მძღოლს მოძრაობის გაგრძელების უფლება აქვს:

- | | | | |
|---|----------------|---|----------------------|
| 1 | A მიმართულებით | 2 | B მიმართულებით |
| 3 | C მიმართულებით | 4 | არცერთი მიმართულებით |

ბილეთი N: 168; სწორი პასუხი:1



მოცემულ სიტუაციაში, ვალდებულია თუ არა ღურტი ავტომობილის მძღოლი ისრის მიმართულებით მობრუნების მანევრის შესრულებისას გამერდეს გამყოფ ზოლებს შორის არსებულ მოძრაობის ამკრძალავ შექნიმნის მამუქ სიგნალზე?

- | | |
|--|----------------------------|
| <p>1 ვალდებულია</p> | <p>2 არ არის ვალდებული</p> |
| <p>3 არ არის ვალდებული თუ არ შეაფერხებს საპირისპირო მიმართულებიდან მოძრავ სატრანსპორტო საშუალებებს</p> | |

ბილეთი N: 169; სწორი პასუხი:2



მოცემულ სიტუაციაში, ვალდებულია თუ არა ლურჯი ავტომობილის შტაბოლი ისრის მიმართულებით მობრუნების მანევრის შესრულებისას გამერდეს გამყოფ ზოლებს შორის არსებულ მოძრაობის ამკრძალავ შექნიმნის მამუქ სიგნალზე?

- | | |
|--------------|---------------------|
| 1 ვალდებულია | 2 არ არის ვალდებული |
|--------------|---------------------|

თუ რკინიგზის გადასასვლელზე შექნიმნის მამუქი სიგნალები გამოერთულია:

1

მოდრაობა ნებადართულია მხოლოდ მაშინ, როცა ხილვადობის ფარგლებში არ ჩანს გადასასვლელთან მოახლოებული მატარებელი (ლოკომოტივი, დრეზინა)

2

მოდრაობა აკრძალულია

„T“-სებურად განლაგებული მოყვითალო ოთხი მრგვალი მაშუქი სიგნალი შეიძლება გამოყენებული იქნეს:

1

„T“-სებურ გზაჯვარედინზე მოძრაობის რეგულირებისათვის


2

სამარშრუტო სატრანსპორტო საშუალებების მოძრაობისათვის სპეციალურად გამოყოფილ ზოლზე მოძრაობის რეგულირებისათვის

3

თვლიანი ტრაქტორების მოძრაობის რეგულირებისათვის

ბილეთი N: 198; სწორი პასუხი:2



- | | |
|-----------------------------|--|
| 1 მხოლოდ ავტომობილის მძღოლს | 2 მხოლოდ მოტოციკლისა და ავტომობილის მძღოლებს |
| 3 მხოლოდ ტრამვაის მძღოლს | 4 ყველა სატრანსპორტო საშუალების მძღოლს |

ბილეთი N: 200; სწორი პასუხი:4



რომელი ავტომობილის მძღოლს აქვს უფლება გააგრძელოს მოძრაობა მარეგულირებლის ამ სიგნალზე?

- | | | | |
|---|-----------------------------------|---|----------------------------|
| 1 | ორივე ავტომობილის მძღოლს | 2 | მხოლოდ ავტობუსის მძღოლს |
| 3 | მხოლოდ მსუბუქი ავტომობილის მძღოლს | 4 | არცერთი ავტომობილის მძღოლს |



მარეგულირებლის ამ სიგნალზე ისრის მიმართულებით მოძრაობის გაგრძელების უფლება აქვს:

- | | |
|-----------------------------------|-----------------------------------|
| 1 მხოლოდ ლურჯი ავტომობილის მძღოლს | 2 მხოლოდ თეთრი ავტომობილის მძღოლს |
| 3 არცერთი ავტომობილის მძღოლს | 4 ორივე ავტომობილის მძღოლს |

ბილეთი N: 209; სწორი პასუხი:3



რომელი სატრანსპორტო საშუალების მძღოლს აქვს მოძრაობის გაგრძელების უფლება ისრის მიმართულებით მარეგულირებლის ამ სიგნალზე?

- | | |
|--|--|
| 1 მხოლოდ მსუბუქი ავტომობილის მძღოლს | 2 მხოლოდ მოტოციკლის მძღოლს |
| 3 მხოლოდ მოტოციკლისა და ავტობუსის მძღოლებს | 4 ყველა სატრანსპორტო საშუალების მძღოლს |

ბილეთი N: 238; სწორი პასუხი:2



ავტომობილზე „A“ კატეგორიის სატრანსპორტო საშუალების მძღოლს უფლება აქვს იმოძრაოს არაუმეტეს:

- | | | | |
|---|-------------------|---|--------------------|
| 1 | 60 კმ/სთ სიჩქარით | 2 | 80 კმ/სთ სიჩქარით |
| 3 | 90 კმ/სთ სიჩქარით | 4 | 110 კმ/სთ სიჩქარით |

ქვემოთ ჩამოთვლილი საგზაო პირობებიდან, რომელი უნდა გაითვალისწინოს მძღოლმა სატრანსპორტო საშუალების სიჩქარის შეცვლისას?

1

მხოლოდ ადგილის რელიეფი და მოძრაობის ინტენსიურობა

2

მხოლოდ ატმოსფერული პირობები, აგრეთვე არასაკმარისი ან შეზღუდული ხილვადობა

3

მხოლოდ გზისა და სატრანსპორტო საშუალების მდგომარეობა

4

ამ ბილეთში ჩამოთვლილი ყველა საგზაო პირობა



მოცემული საგზაო ნიშანი:

1

ვრძალავს მოძრაობას ნიშანზე მიუთითებულზე მეტი სიჩქარით

2

აღნიშნავს მავსიმალური სიჩქარის შემზღუდავი საგზაო ნიშნის მოქმედების ზონის დასასრულს

3

მიუთითებს სიჩქარეს, რომლითაც რეკომენდირებულა მოძრაობა გზის მოცემულ მონაკვეთზე

ბილეთი N: 256; სწორი პასუხი:1



I



II



III



IV

მოცემული საგზაო ნიშნების კომბინაციიდან რომელი იდგმება დაუსახლებელ პუნქტში, რკინიგზის უშლავბაუმთ გადასასვლელამდე 150-300 მეტრის მანძილზე, გზის მარცხენა მხარეს?

1

2

3

4

თუ გადასასვლელზე არ არსებობს ან არ მუშაობს ქვეითებისთვის განკუთვნილი შექნიშანი, მაგრამ სატრანსპორტო საშუალებათა მოძრაობა სატრანსპორტო შექნიშნის მეშვეობით რეგულირდება, ქვეითი გზის სავალ ნაწილზე არ უნდა გადავიდეს:

1

მოახლოებულ სატრანსპორტო საშუალებამდე მანძილის, მისი სიჩქარის განსაზღვრისა და გადასვლის უსაფრთხოებაში დარწმუნებამდე

2

ვიდრე შექნიშნის ან მარეგულირებლის სიგნალები ამ სავალ ნაწილზე სატრანსპორტო საშუალებათა მოძრაობის უფლებას იძლევა

გზატვარედინზე ქვეითთა გადასასვლელის არარსებობის შემთხვევაში, ქვეითმა გზის საგალი ნაწილი უნდა გადაკვეთოს:

1

მხოლოდ დასახულ ადგილამდე უმოკლესი ტრაექტორიით

2

მხოლოდ ტროტუარის ან გვერდულის გასწვრივ



ბილეთი N: 264; სწორი პასუხი:1




მოცემულ სიტუაციაში, ეკრძალება თუ არა მსუბუქი ავტომობილის მძღოლს გასწრება?

1 ეკრძალება

2 არ ეკრძალება

ბილეთი N: 265; სწორი პასუხი:2



აქვს თუ არა უფლება მსუბუქი ავტომობილის მძღოლს, გააგრძელოს მოძრაობა ისრის მიმართულებით?

1

აქვს უფლება

2

არ აქვს უფლება


ბილეთი N: 282; სწორი პასუხი:2



ეკრძალება თუ არა მსუბუქი ავტომობილის მძღოლს ისრის მიმართულებით გასწრება?

- 1 ეკრძალება
- 2 არ ეკრძალება

ბილეთი N: 283; სწორი პასუხი:1



ეკრძალება თუ არა მსუბუქი ავტომობილის მძღოლს ისრის მიმართულებით გასწრება?

1

ეკრძალება

2

არ ეკრძალება

ბილეთი N: 288; სწორი პასუხი:1



დაარღვევს თუ არა საგზაო მოძრაობის წესებს თეთრი ავტომობილის მძღველი ისრით მითითებული მანევრის შესრულების შემთხვევაში, თუ მარცხენა მხრიდან ქვეითს დაწყებული აქვს გადასვლა?

- 1 დაარღვევს
- 2 არ დაარღვევს

გასწრების დანყების წინ მძღოლი უნდა დარწმუნდეს:

- 1 მხოლოდ იმაში, რომ მის უკან მომავალი არყერთი სატრანსპორტო საშუალების მძღოლს გასწრება არ დაუწყია
- 2 მხოლოდ იმაში, რომ მოძრაობის იმავე ზოლზე მის წინ მოძრავი სატრანსპორტო საშუალების მძღოლს არ მიუცია სიგნალი, რომ აპირებს გაუსწროს სხვა სატრანსპორტო საშუალებას
- 3 მხოლოდ იმაში, რომ მოძრაობის ზოლი, რომელზეც აპირებს გასვლას, საკმარის მანძილზე თავისუფალია, ამასთან ორი სატრანსპორტო საშუალების სიჩქარეთა ღარდობა საკმარისად მოკლე დროში გასწრების საშუალებას იძლევა
- 4 ამ ბილეთში ჩამოთვლილ ყველა გარემოებაში


ბილეთი N: 298; სწორი პასუხი:2



ეკრძალება თუ არა მსუბუქი ავტომობილის მძღოლს ისრის შიშართულებით მოძრაობა?

- 1 ეკრძალება
- 2 არ ეკრძალება

ბილეთი N: 299; სწორი პასუხი:3



ისრის შიშართულებით მოძრავი რომელი ავტომობილის მძღოლი არღვევს საგზაო მოძრაობის წესებს?

- | | |
|------------------------------------|----------------------------------|
| 1 მხოლოდ წითელი ავტომობილის მძღოლი | 2 მხოლოდ შავი ავტომობილის მძღოლი |
| 3 ორივე ავტომობილის მძღოლი | |

ბილეთი N: 307; სწორი პასუხი:4



რომელი სატრანსპორტო საშუალების მძღოლი არღვევს საგზაო მოძრაობის წესებს, თუ ისინი მოძრაობენ 90 კმ/სთ სიჩქარით?

- | | |
|------------------------------|---|
| 1 მხოლოდ კვადროციკლის მძღოლი | 2 მხოლოდ მსუბუქი ავტომობილის მძღოლი |
| 3 მხოლოდ მოტოციკლის მძღოლი | 4 მხოლოდ კვადროციკლისა და მოტოციკლის მძღოლები |


ბილეთი N: 308; სწორი პასუხი:1



ეკრძალება თუ არა მოტოციკლის მძღოლს ისრის მიმართულებით გასწრება, თუ მსუბუქი ავტომობილის გასასწრებად მან უნდა იმოძრაოს მინიმუმ 85 კმ/სთ სიჩქარით?

- 1 ეკრძალება
- 2 არ ეკრძალება

ბილეთი N: 309; სწორი პასუხი:1



ეკრძალება თუ არა მოტოციკლის მძღოლს ისრის მიმართულებით გასწრება, თუ მოცემულ გზის მონაკვეთზე ხილვადობა შეზღუდულია?


1

ეკრძალება

2

არ ეკრძალება

ბილეთი N: 312; სწორი პასუხი:3



მოცემულ სიტუაციაში, რომელ სატრანსპორტო საშუალებების მძღოლს ეკრძალება ისრის მიმართულებით მოძრაობა, თუ მობუქსირე მოტოციკლის დაწყებული აქვს დაბრკოლების შემოვლა?

- | | |
|---|-------------------------------------|
| 1 მხოლოდ მობუქსირე და საბუქსირე მოტოციკლის მძღოლებს | 2 მხოლოდ მსუბუქი ავტომობილის მძღოლს |
| 3 როგორც მობუქსირე და საბუქსირე მოტოციკლის მძღოლებს, ასევე მსუბუქი ავტომობილის მძღოლს | |

ბილეთი N: 314; სწორი პასუხი:2



მოცემულ სიტუაციაში მხოლოდ სამარშუტო ყვითელი ავტობუსის მძღოლი აწარმოებს მგზავრთა ჩასხდომა-გადმოსხდომას, რომელი ავტომობილის მძღოლი არ არღვევს გაჩერების წესებს?

- | | |
|--------------------------------------|---|
| 1 მხოლოდ მსუბუქი ავტომობილის მძღოლი | 2 მხოლოდ სამარშუტო ყვითელი ავტობუსის მძღოლი |
| 3 მხოლოდ სატვირთო ავტომობილის მძღოლი | 4 არცერთი ავტომობილის მძღოლი |


ბილეთი N: 318; სწორი პასუხი:4



მოტოციკლის მძღოლს უფლება აქვს გაჩერდეს:

- | | | | |
|---|--------------------------------|---|-----------------------|
| 1 | მხოლოდ A და B ადგილას | 2 | მხოლოდ B ადგილას |
| 3 | როგორც A, ასევე B და C ადგილას | 4 | მხოლოდ B და C ადგილას |

ბილეთი N: 319; სწორი პასუხი:3



მოტოციკლის მძღოლს უფლება აქვს გაჩერდეს:

- | | |
|--------------------|-------------------------|
| 1 მხოლოდ A ადგილას | 2 მხოლოდ B ადგილას |
| 3 მხოლოდ C ადგილას | 4 მხოლოდ B და C ადგილას |


ბილეთი N: 320; სწორი პასუხი:3



რომელი სატრანსპორტო საშუალებაა დაყენებული დგომის წესების დარღვევით, თუ ჯერ დადგა თეთრი მსუბუქი ავტომობილი, მერე - უეტლო მოტოციკლი და ბოლოს - ეტლიანი მოტოციკლი?

- | | | | |
|---|--------------------------|---|--------------------------------|
| 1 | თეთრი მსუბუქი ავტომობილი | 2 | უეტლო მოტოციკლი |
| 3 | ეტლიანი მოტოციკლი | 4 | არცერთი სატრანსპორტო საშუალება |

ბილეთი N: 324; სწორი პასუხი:2



რომელი ავტომობილის მძღოლი დაარღვევს საგზაო მოძრაობის წესებს ხილბე ისრით შითითებულ ადგილას გაჩერების შემთხვევაში?

- | | |
|-----------------------------------|------------------------------------|
| 1 მხოლოდ თეთრი ავტომობილის მძღოლი | 2 მხოლოდ წითელი ავტომობილის მძღოლი |
| 3 ორივე ავტომობილის მძღოლი | 4 არცერთი ავტომობილის მძღოლი |

ვალდებულია თუ არა მძღოლი ბავშვთა ჯგუფების გამცილებლის მინიმუმებისას გზა დაუთმოს იმ ბავშვებს, რომლებიც კვეთენ სავალ ნაწილს?

1

არ არის ვალდებული

2

ვალდებულია



ბილეთი N: 337; სწორი პასუხი:2



რომელი სატრანსპორტო საშუალებაა დაყენებული დგომის წესების დარღვევით?

- | | | | |
|---|-------------------|---|------------------------------|
| 1 | მოტოციკლი | 2 | თეთრი ავტომობილი |
| 3 | მწვანე ავტომობილი | 4 | ყველა სატრანსპორტო საშუალება |

ბილეთი N: 343; სწორი პასუხი:2



დაარღვევს თუ არა მსუბუქი ავტომობილის მძღოლი საგზაო მოძრაობის წესებს ისრით მითითებულ ადგილას ავტომობილის სადგომზე დაყენების შემთხვევაში?

1

დაარღვევს

2

არ დაარღვევს

ბილეთი N: 345; სწორი პასუხი:3



რომელი სატრანსპორტო საშუალებაა დაყენებული დგომის წესების დარღვევით?

1 მხოლოდ მტოციკლი

2 მხოლოდ მსუბუქი ავტომობილი

3 ორივე სატრანსპორტო საშუალება

4 არცერთი სატრანსპორტო საშუალება

თუ სამი მოძრაობის ზოლის მქონე ორმხრივ მოძრაობიანი გზის შუა ზოლი ორივე მიმართულებით მოძრაობისათვის გამოიყენება, თანმხვედრი მიმართულების მოძრაობის მხარედ ითვლება:

1

შუა და მარჯვენა მოძრაობის ზოლები

2

მხოლოდ მარჯვენა მხარეს მდებარე მოძრაობის ზოლი



ბილეთი N: 353; სწორი პასუხი:1



აქვს თუ არა მსუბუქი ავტომობილის მძღოლს, სურათზე მითითებულ ადგილას, ავტომობილის სადგომზე დაყენების უფლება, თვის ღუნ რიცხვებში 19.00 საათიდან 21.00 საათამდე?

1

აქვს უფლება

2

არ აქვს უფლება

სატრანსპორტო საშუალება იძულებით გაჩერებულად ითვლება, თუ:

1

მოდრაობა შეწყვეტილია ტექნიკური გაუმართაობის გამო

2

მოდრაობა გამიზნულად შეწყვეტილია 5 წუთზე მეტი დროით, თუ ეს არ ეხება მგზავრთა ჩასხდომა-გადმოსხდომას, ან სატრანსპორტო საშუალების დატვირთვა-გადმოტვირთვას

3

მოდრაობა წინასწარ განზრახულად შეწყვეტილია 5 წუთამდე

ბილეთი N: 359; სწორი პასუხი:4



რომელი სატრანსპორტო საშუალების მძღოლის მიმართ ენიჭება უპირატესობა რუხი ავტომობილის მძღოლს ისრის მიმართულებით მოძრაობის შემთხვევაში?

- | | |
|---|--|
| 1 მხოლოდ მოტოციკლის მიმართ | 2 მხოლოდ თეთრი ავტომობილის მძღოლის მიმართ |
| 3 როგორც მოტოციკლის, ასევე თეთრი ავტომობილის მძღოლის მიმართ | 4 არცერთი სატრანსპორტო საშუალების მძღოლის მიმართ |

ბილეთი N: 373; სწორი პასუხი:4



მოცემულ სიტუაციაში, რომელი სატრანსპორტო საშუალების მძღოლი არღვევს საგზაო მოძრაობის წესებს, თუ ხიდზე მგზავრთა ჩასხდომის მიზნით მსუბუქი ავტომობილი ისრის მიმართულებით მოძრაობს უკუსვლით, ხოლო - მოტოციკლი ახორციელებს ისრის მიმართულებით მობრუნებას?

- | | |
|--|--|
| 1 მხოლოდ მოტოციკლის მძღოლი | 2 მხოლოდ ავტომობილის მძღოლი |
| 3 არცერთი სატრანსპორტო საშუალების მძღოლი | 4 ორივე სატრანსპორტო საშუალების მძღოლები |

ბილეთი N: 378; სწორი პასუხი:1



წითელი ავტომობილის მძღოლი გასცდა მარჯვნივ მოსასვენებს. ეკრძალება თუ არა მას მოსასვენებში შესასვლელად ისრის მიმართულებით უკუსვლით მოძრაობა?

1 ეკრძალება

2 არ ეკრძალება

ბილეთი N: 379; სწორი პასუხი:1



მსუბუქი ავტომობილის მძღოლი გასცდა სავალი ნაწილების განივი შეერთების ადგილს. ეკრძალება თუ არა მას ისრის მიმართულებით უკუსვლით მოძრაობა?

1 ეკრძალება

2 არ ეკრძალება

ბილეთი N: 389; სწორი პასუხი:1



მსუბუქი ავტომობილის მძღოლს უფლება აქვს იმოძრაოს:

- | | |
|-------------------------|-------------------------|
| 1 მხოლოდ A მიმართულებით | 2 მხოლოდ B მიმართულებით |
| 3 მხოლოდ C მიმართულებით | 4 არცერთი მიმართულებით |

ბილეთი N: 390; სწორი პასუხი:1



რამდენი საგაბლი ნაწილი აქვს მოცემულ გზას?


1 ერთი

2 ორი

3 სამი

4 ოთხი

ბილეთი N: 391; სწორი პასუხი:2



რამდენი სავალი ნაწილი აქვს მოცემულ გზას?

1	ერთი	2	ორი
3	ოთხი		

აკრძალულია თუ არა ურელსო სატრანსპორტო საშუალებით საპირისპირო მიმართულებით მოძრავი ტრამვაის ლიანდაგზე გასვლა?

1

არ არის აკრძალული, თუ თანმხვედრი მიმართულებით მოძრაობისათვის ყველა ზოლი დაგაფებულია

2

აკრძალულია



თუ სატრანსპორტო საშუალებების მოძრაობის ტრანექტორიები იკვეთება, ხოლო გავლის რიგითობა განსაზღვრული არ არის, მძღოლმა გზა უნდა დაუთმოს იმ სატრანსპორტო საშუალებას, რომელიც მას უახლოვედგება:

- 1 მარჯვნიდან
- 2 მარცხნიდან



ბილეთი N: 404; სწორი პასუხი:1



I



II



III

რომელ ნახატზეა ნაჩვენები მტოციკლის მძღოლის მიერ ხელით მიცემული მარცხნივ მოხვევის სიგნალი?

1

2

3

ბილეთი N: 405; სწორი პასუხი:3



I



II



III

რომელ ნახატზეა ნაჩვენები მოტოციკლის მძღოლის მიერ ხელით მიცემული მარჯვნივ მოხვევის სიგნალი?

1

2

3

ბილეთი N: 406; სწორი პასუხი:2



I



II



III

რომელ ნახატზეა ნაჩვენები მოტოციკლის მძღოლის მიერ ხელით მიცემული დამუხრუჭების სიგნალი?

1

2

3

ბილეთი N: 413; სწორი პასუხი:2



დანყებულია ნახევარშლაგბაუმის დაკეტვა. ავტომობილის მძღოლი არ დაარღვევს საგზაო მოძრაობის წესებს, თუ:

- | | |
|---|-------------------------|
| 1 დაასრულებს მოძრაობას, რადგან ასწრებს რკინიგზის გადასასვლელებზე გადასვლას | 2 გაჩერდება შეენიშნათან |
| 3 დარწმუნდება, რომ ხილვადობის უარგლებში გადასასვლელს არ უახლოვდება მატარებელი და გაივლის რკინიგზის გადასასვლელს | |

ბილეთი N: 417; სწორი პასუხი:1



მოცემულ სიტუაციაში, სარკინიგზო გადასასვლელთან გაჩერებული, რომელი ავტომობილის მძღოლი არღვევს საგზაო მოძრაობის წესებს?

- | | |
|-------------------------------------|-----------------------------------|
| 1 მხოლოდ ყვითელი ავტომობილის მძღოლი | 2 მხოლოდ თეთრი ავტომობილის მძღოლი |
| 3 ორივე ავტომობილის მძღოლები | 4 არცერთი ავტომობილის მძღოლი |


ბილეთი N: 420; სწორი პასუხი:3



მოცემულ სიტუაციაში, მოტოციკლის მძღოლი:

- | | |
|---|--|
| <p>1 ვალდებულია გაჩერდეს საგზაო ნიშანთან</p> | <p>2 ვალდებულია გაჩერდეს უახლოეს რელსამდე არანაკლებ 10 მ-ის მანძილზე</p> |
| <p>3 უნდა დარწმუნდეს, რომ ხილვადობის ღარგლეხში გადასასვლელს არ უახლოვდება მატარებელი და გაიაროს რკინიგზის გადასასველი</p> | |

ბილეთი N: 421; სწორი პასუხი:2



მატარებელი ამთავრებს რკინიგზის გადასასვლელის გავლას. ავტომობილის მძღოლს მოძრაობის გაგრძელების უფლება აქვს:

1

დაუყოვნებლივ, მატარებლის გავლის შემდეგ

2

მატარებლის გავლისა და შეუნიშანზე მოციმციმე ყვითელი მამუცი სიგნალის ჩართვის შემდეგ

გარდა გზიდან მარცხენა მხრიდან გასვლის შემთხვევისა, მძღოლი, რომელიც დარწმუნდება, რომ მის უკან მომავალი მძღოლი აპირებს გასწრებას ვალდებულია:

1

მოუახლოვდეს გზის სავალი ნაწილის მარჯვენა კიდეს და გაზარდოს სიჩქარე


2

დაიკავოს თანმხვედრი მიმართულების უკიდურესი მარცხენა მხარე და შეამციროს სიჩქარე

3


შეძლებისდაგვარად მოუახლოვდეს გზის სავალი ნაწილის მარჯვენა კიდეს და არ გაზარდოს სიჩქარე

ბილეთი N: 427; სწორი პასუხი:3



- | | | | |
|---|------------------------|---|---|
| 1 | გააგრძელოს მოძრაობა | 2 | გაჩერდეს უახლოეს რელსამდე, არანაკლებ 10 მეტრის მანძილზე |
| 3 | გაჩერდეს „სდეე“ ხაზთან | 4 | გაჩერდეს შეუნიშნავად |

ბილეთი N: 428; სწორი პასუხი:2



მოცემულ სიტუაციაში, ავტომობილის მძღოლი ვალდებულია:

- | | | | |
|---|---|---|------------------------|
| 1 | გააგრძელოს მოძრაობა | 2 | გაჩერდეს „სდექ“ ხაზთან |
| 3 | გაჩერდეს უახლოეს რელსამდე, არანაკლებ 10 მეტრის მანძილზე | 4 | გაჩერდეს შეუნიშნთან |

რკინიგზის გადასასვლელზე აკრძალულია:

1

მხოლოდ საპირისპირო მოძრაობის ზოლზე გასვლით, გადასასვლელის წინ მდგომი სატრანსპორტო საშუალების შემოვლა

2

მხოლოდ შლაგბუმის ან ნახევარშლაგბუმის თვითნებური გახსნა

3

მხოლოდ იმ სასოფლო - სამეურნეო, საგზაო - სამშენებლო და სხვა მანქანებისა და მექანიზმების არასატრანსპორტო მდგომარეობაში გადატანა, რომლებმაც შეიძლება დააზიანონ გადასასვლელი, ან შეაღებონ მასზე მოძრაობა

4

ამ ბილეთში ჩამოთვლილი ნებისმიერი მოქმედების განხორციელება

ავტომაგისტრალზე, ასევე ავტომაგისტრალის შესასვლელსა და გამოსასვლელზე აკრძალული არ არის:

1

სატრანსპორტო საშუალების მობრუნება ან უკუსვლით მოძრაობა

2

სატრანსპორტო საშუალებით ცენტრალურ გამყოფ ზოლსა და გზის ორივე სავალი ნაწილის განივ შეერთებაზე გასვლა


3

მეორე ზოლის იქეთ, იმ მგზავრთა გადაყვანისათვის განკუთვნილი ავტომობილით მოძრაობა, რომლის ნებადართული მაქსიმალური მასაა 3,5 ტონას აღემატება

4

სასწავლო სვლა

ბილეთი N: 451; სწორი პასუხი:2



ავტომაგისტრალიდან გამოსასვლელად მსუბუქი ავტომობილის მძღოლს უფლება აქვს იმოძრაოს:

- | | |
|----------------------------------|------------------|
| 1 A მიმართულებით | 2 B მიმართულებით |
| 3 როგორც A, ასევე B მიმართულებით | |

ბილეთი N: 452; სწორი პასუხი:2



ავტომანქანაზე შესასვლელად მსუბუქი ავტომობილის მძღოლს უფლება აქვს იმოძრაოს:

- | | |
|----------------------------------|-------------------------|
| 1 მხოლოდ A მიმართულებით | 2 მხოლოდ B მიმართულებით |
| 3 როგორც A, ასევე B მიმართულებით | |


ბილეთი N: 453; სწორი პასუხი:2



ისრის მიმართულებით მოძრაობის შემთხვევაში უპირატესობით სარგებლობს:

- | | |
|------------------------------|---------------------|
| 1 მსუბუქი ავტომობილის მძღოლი | 2 მოტოციკლის მძღოლი |
|------------------------------|---------------------|

ბილეთი N: 483; სწორი პასუხი:2



მოცემულ სიტუაციაში, აქვს თუ არა მსუბუქი ავტომობილის მძღოლს შეუჩერებლად მოძრაობის გაგრძელების უფლება?

1

აქვს უფლება

2

არ აქვს უფლება

ბილეთი N: 492; სწორი პასუხი:2



რომელი ავტომობილის მძღოლს ენიჭება უპირატესობა ისრის მიმართულებით მოძრაობის შემთხვევაში?

1

შავი ავტომობილის მძღოლს

2

თეთრი ავტომობილის მძღოლს

საგზაო-სატრანსპორტო შემთხვევის შედეგად დაზარებულის მდგომარეობის შეფასების მიზნით უპირველესად საჭიროა:

1

მხოლოდ სასუნთქი გზების გახსნა და სუნთქის კონტროლი

2

მხოლოდ ცნობიერების შემოწმება

3

მხოლოდ საძილე არტერიაზე პულსაციის შემოწმება

4

როგორც სასუნთქი გზების გახსნა და სუნთქის კონტროლი, ასევე საძილე არტერიაზე პულსაციისა და ცნობიერების შემოწმება

თუ საგზაო-სატრანსპორტო შემთხვევის შედეგად დაშავებულს აღენიშნება კანის მე-2 ხარისხის დამწვრობა (კანის ქსოვილის დარღვევა და მონიტალო შეფერილობა, დამწვრობის ადგილზე სითხით შევსებული ბუშტების წარმოქმნა, ძლიერი ტკივილი) პირველადი სამედიცინო დახმარების აღმოჩენის მიზნით მას უნდა:

1

დამწვარი ზედაპირი გადაფერეცხოთ ცივი წყლით, დაფუშეთ იოდის ხსნარით, დაფადოთ ბაქტერიციდული ან სუფთა საფენი, შევუხვიოთ ბინტით


2

გაფუხსნათ ბუშტები, გაფუსუფუთოთ დამწვარი ზედაპირი ტანსაცმლის ნარჩენებიდან, დაფადოთ ბაქტერიციდული ან სუფთა საფენი, დაშავებულს დაგაღვივნოთ წყალი

3

ბუშტები არ გაფუხსნათ, ტანსაცმლის ნარჩენები დამწვარი ზედაპირიდან არ მოგაცილოთ, ჭრილობაზე დაფადოთ სტერილური საფენი, ბინტით არ შევუხვიოთ, მივადოთ ყინული ან ცივი საფენი, მივცეთ ტკივილგამაყუჩებელი საშუალება (თუ დაშავებულს მის მიმართ ალერგია არ გააჩნია) და დაშავებულს დაგაღვივნოთ წყალი

ბილეთი N: 502; სწორი პასუხი:3



რომელი სატრანსპორტო საშუალების მძღოლს არ ეკრძალება ისრის მიმართულებით მოძრაობა?

- | | |
|---|--------------------------------------|
| 1 მხოლოდ მოტოციკლების მძღოლებს | 2 მხოლოდ სატვირთო ავტომობილის მძღოლს |
| 3 სამივე სატრანსპორტო საშუალების მძღოლს | |

ბილეთი N: 503; სწორი პასუხი:4



რომელი საგზაო მოძრაობის მონაწილეს მიმართ წარმოექმნება გზის დათმობის ვალდებულება მსუბუქი ავტომობის მძღოლს ისრის მიმართულებით მოძრაობის შემთხვევაში?

- | | |
|--|---|
| 1 მხოლოდ ქვეითების მიმართ | 2 მხოლოდ ველოსიპედის მძღოლის მიმართ |
| 3 მხოლოდ სატვირთო ავტომობილის მძღოლის მიმართ | 4 როგორც ქვეითების, ასევე ველოსიპედისა და სატვირთო ავტომობილის მძღოლების მიმართ |

თუ საგზაო-სატრანსპორტო შემთხვევის შედეგად დაზარებულს არ აღენიშნება სუნთქვა და პულსაცია საძილე არტერიაზე, პირველადი სამედიცინო დახმარების აღმოჩენის მიზნით, მას უნდა ჩატარდეს:

1

მხოლოდ ხელოვნური სუნთქვა


2

მხოლოდ გულის არაპირდაპირი მასაჟი

3

როგორც ხელოვნური სუნთქვა, ასევე გულის არაპირდაპირი მასაჟი

ბილეთი N: 506; სწორი პასუხი:3



ისრით ნაჩვენები რომელი მიმართულებით მოძრაობის შემთხვევაში დაარღვევს მოჰედის მძღოლი საგზაო მოძრაობის წესებს?

- | | |
|------------------|----------------------------------|
| 1 A მიმართულებით | 2 როგორც A, ასევე B მიმართულებით |
| 3 B მიმართულებით | |


ბილეთი N: 510; სწორი პასუხი:3



რომელი სატრანსპორტო საშუალების მძღოლი დაარღვევს საგზაო მოძრაობის წესებს ისრის მიმართულებით მოძრაობის შემთხვევაში?

- | | |
|--|--------------------------------|
| 1 მხოლოდ მსუბუქი ავტომობილის მძღოლი | 2 მხოლოდ მოტოციკლების მძღოლები |
| 3 არცერთი სატრანსპორტო საშუალების მძღოლი | |

ბილეთი N: 512; სწორი პასუხი:2



რა თანამიმდევრობით უნდა გაიარონ გზატკარცილის სატრანსპორტო საშუალებებმა ისრის მიმართულებით მოძრაობის შემთხვევაში?

- | | |
|--|--|
| <p>1 ჯერ უნდა გაიაროს მწვანე ავტომობილმა, შემდეგ - წითელმა ავტომობილმა, ბოლოს - ველოსიკედმა</p> | <p>2 ჯერ უნდა გაიაროს ველოსიკედმა, შემდეგ - მწვანე ავტომობილმა, ბოლოს - წითელმა ავტომობილმა</p> |
| <p>3 ჯერ უნდა გაიაროს წითელმა ავტომობილმა, შემდეგ - ველოსიკედმა, ბოლოს - მწვანე ავტომობილმა</p> | |



აქვთ თუ არა უფლება საცხოვრებელ ზონაში მოძრავ ქვეითებს უსაფუძვლოდ შეაფერხონ თეთრი ავტომობილის მოძრაობა?

1

აქვთ უფლება, ვინაიდან საცხოვრებელ ზონაში ქვეითს უპირატესობა აქვს სხვა საგზაო მოძრაობის მონაწილეების მიმართ

2

არ აქვთ უფლება


ბილეთი N: 517; სწორი პასუხი:3



მოტოციკლის მძღოლს უფლება აქვს იმოძრაოს არაუმეტეს:

1 60 ვმ/სთ სიჩქარით	2 40 ვმ/სთ სიჩქარით
3 20 ვმ/სთ სიჩქარით	

ბილეთი N: 519; სწორი პასუხი:4



რომელი საგზაო მოძრაობის მონაწილეს მიმართ წარმოექმნება გზის დათმობის ვალდებულება მსუბუქი ავტომობის მძღოლს ისრის მიმართულებით მოძრაობის შემთხვევაში?

- | | |
|---------------------------------|--|
| 1 მხოლოდ ქვეითების მიმართ | 2 მხოლოდ ველოსიპედის მძღოლის მიმართ |
| 3 მხოლოდ მოპედის მძღოლის მიმართ | 4 როგორც ქვეითების, ასევე ველოსიპედისა და მოპედის მძღოლების მიმართ |

აკრძალულია მოთოციკლით იმ ტვირთის გადაზიდვა, რომელიც გადმოშვებულია სიგანეზე ან სიგრძეზე გაბარიტებს გარეთ:

1

0,5 მეტრზე მეტად

2

არანაკლებ 0,7 მეტრით

3

არანაკლებ 1,0 მეტრით

გარდა შემთხვევებისა, როცა აუცილებელია ხელით მისცენ მანევრის შესრულებასთან დაკავშირებული სიგნალები, მოტოციკლის მძღოლებს ეკრძალებათ გადაადგილება, თუ:

1

საჭე ორივე ხელით არ უჭირავთ

2

საჭე ერთი ხელით მაინც არ უჭირავთ



დასაშვებია თუ არა უეტლო მოტოციკლით მისაბმელის ბუქსირება?

1

დასაშვებია, ყველა იმ მისაბმელის ბუქსირება, რომლის ნებადართული მაქსიმალური მასაა 750 კგ-ზე ნაკლებია

2

არ არის დაშვებული

3

დასაშვებია, მხოლოდ იმ მისაბმელის ბუქსირება, რომელიც განკუთვნილია აღნიშნულ ტრანსპორტთან ერთად ექსპლუატაციისათვის

სავალდებულოა თუ არა მოტოციკლის მძღოლეებისთვის და მათი მგზავრებისთვის სპეციალური ჩაფხუტის გამოყენება?

1

სავალდებულოა

2

არ არის სავალდებულო



აქვს თუ არა უფლება მოპედის, მოტოციკლის, ორბორბლიანი ელექტროთვითმგორავისა და ველთსიპედის მძღოლს გზაზე იმოძრაოს ისე, რომ სატრანსპორტო საშუალების ყველა თვალი არ ეხებოდეს გზის ზედაპირს?

1

არ აქვს უფლება

2

აქვს უფლება



თუ საგზაო-სატრანსპორტო შემთხვევის შედეგად დაშავებულს არ აღენიშნება სუნთქვა, მაგრამ აღენიშნება პულსაცია საძილე არტერიაზე, მას უნდა ჩაუტარდეს:

1

მხოლოდ ხელოვნური სუნთქვა


2

მხოლოდ გულის არაპირდაპირი მასაჟი

3

როგორც ხელოვნური სუნთქვა, ასევე გულის არაპირდაპირი მასაჟი

ბილეთი N: 544; სწორი პასუხი:3



რომელი სატრანსპორტო საშუალების მძღოლს ეკრძალება ისრის მიმართულებით მოძრაობა?

- 1 მხოლოდ ყვითელი ავტომობილს მძღოლს
- 3 მხოლოდ მობუქსირე ავტომობილის მძღოლს

- 2 მხოლოდ სატვირთო ავტომობილის მძღოლს
- 4 არცერთი სატრანსპორტო საშუალების მძღოლს

ბილეთი N: 553; სწორი პასუხი:1



მოცემულ სიტუაციაში, ეკრძალება თუ არა მობეჭსირე ავტომობილის მძღოლს, ისრის მიმართულებით მოძრაობა, თუ გზა მოყინულია?

1

ეკრძალება

2

არა ეკრძალება

თუ უმოქმედო სამუხრუჭო სისტემის მქონე მექანიკური სატრანსპორტო საშუალების ფაქტობრივი მასა, მობუქსირე სატრანსპორტო საშუალების ფაქტობრივი მასის ნახევარს აღემატება, მისი ბუქსირება:

- 1 აკრძალულია
- 2 დასაშვებია



ბუქსირება დასაშვებია:

1

მოტოციკლით, გვერდითი მისაბმელის გარეშე, აგრეთვე ასეთი მოტოციკლის ბუქსირება

2

მოქნილი გადაბმით, როცა გზები მოყინულია

3

ამ ბილეთში ჩამოთვლილი არცერთი პასუხი არ არის სწორი

დღე-ღამის ნებისმიერ პერიოდში საბუქსირო მექანიკურ სატრანსპორტო საშუალებას ჩართული უნდა ჰქონდეს:

1

საგაბარიტო სინათლეები

2

ახლო განათების ღვარები

3

საავარიო შექსიგნალიზაცია

თუ საგზაო-სატრანსპორტო შემთხვევის შედეგად დაშავებულს შევლის არეში აღენიშნება ჭრილობა, მისი ტრანსპორტირება უნდა მოხდეს:

1

გვერდზე დანოლილ მდგომარეობაში მუხლებში მოხრილი ფეხებით

2

ნახევრად მჯდომარე მდგომარეობაში გამართული ფეხებით

3

ზევრზე დანოლილ მდგომარეობაში მუხლებში მოხრილი ფეხებით

4

მჯდომარე მდგომარეობაში

თუ საგზაო-სატრანსპორტო შემთხვევის შედეგად დაშავებული გულნასულია, პირველადი სამედიცინო დახმარების აღმოჩენის მიზნით იგი უნდა:

1

დავანვინოთ გვერდზე მოხრილი ფეხებით

2

დავანვინოთ ზურგზე, ამოვუდოთ თავქვეშ ბალიში, ვასუნთქოთ ნიშადურის სპირტი

3

დავანვინოთ ზურგზე, ფეხები წამოუწიოთ. ვასუნთქოთ ნიშადურის სპირტი, საფეთქლები დავუხილოთ ადეკოლონით (ან სხვა სპირტის შემცველი სითხით)

საგზაო-სატრანსპორტო შემთხვევის შედეგად დაზარალებულის თავის ტვინის შერყევის შემთხვევაში, მისი ტრანსპორტირება უნდა განხორციელდეს:

1

ზურგზე დაწოლილ მდგომარეობაში, ამასთან უნდა ამოვუდოთ ხალიჩი ვისრისა და წელის არეში

2

გვერდზე დაწოლილ მდგომარეობაში

თუ საგზაო-სატრანსპორტო შემთხვევის შედეგად დაშავებულს აღენიშნება გულმკერდის გამჭოლი ჭრილობა მისი ტრანსპორტირება უნდა განხორციელდეს:

1

მუცელზე დანოლილ მდგომარეობაში

2

ხურგზე დანოლილ მდგომარეობაში

3

ჯანმრთელ გვერდზე დანოლილ ან ნახევრადმჯდომარე მდგომარეობაში

საგზაო-სატრანსპორტო შემთხვევის შედეგად დაშავებულის მსხვილი არტერიიდან სისხლდენის დამახასიათებელი ნიშნებია:

1

ტანსაცმელი გაფლენილია ალისფერი სისხლით, რომელიც ჭრილობიდან გამოედინება პულსირებული ნაკადით

2

ტანსაცმელი სწრაფად იფლენთება მუქი ფერის სისხლით, რომელიც ჭრილობიდან გამოედინება სუსტი ნაკადით

3

ტანსაცმელი გაფლენილია სისხლით მხოლოდ ჭრილობის ადგილზე, რომელიც ჭრილობიდან გამოედინება სუსტი ნაკადით

ბილეთი N: 601; სწორი პასუხი:2



I



II



III



IV

მოცემული საგზაო ნიშნებიდან რომელი აფრთხილებს მლაგბუმიან რკინიგზის გადასასვლელთან მიხლოების თაობაზე?

1

2

3

4



I



II



III



IV

მთვემული საგზაო ნიშნებიდან რომელი იდგმება განმეორებით დაუსახლებელ პუნქტში?

1

მხოლოდ I და II

2

მხოლოდ I და III

3

ყველა

4

მხოლოდ II და IV



I



II



III



IV

მოცემული საგზაო ნიშნებიდან რომელი იდგმება განმეორებით დასახლებულ პუნქტში?

1

მხოლოდ I და II

2

ყველა

3

მხოლოდ II და III

4

მხოლოდ II და IV



I



II

მოცემული საგზაო ნიშნები იდგმება:

1

რკინიგზის გადასასვლელამდე 100-120 მეტრის მანძილზე

2

რკინიგზის გადასასვლელამდე არანაკლებ 150 მეტრის მანძილზე

3

უშუალოდ რკინიგზის გადასასვლელის წინ

ბილეთი N: 610; სწორი პასუხი:4



I



II



III



IV

მოცემული საგზაო ნიშნებიდან რომელი აფრთხილებს ორი ან მეტი ლიანდაგიანი რკინიგზის უშლავბაუმთ გადასასვლელთან მიახლოების შესახებ?

1

მხოლოდ I და II

2

ყველა

3

მხოლოდ II და III

4

მხოლოდ IV

ბილეთი N: 612; სწორი პასუხი:1



I



II



III



IV

რა მანძილზე იდგმება მოცემული საგზაო ნიშნები დასახლებულ პუნქტში, სახიფათო მონაკვეთის დასაწყისამდე?

1 50-100 მეტრის მანძილზე

2 100-150 მეტრის მანძილზე

3 150-300 მეტრის მანძილზე



I



II

მოცემული საგზაო ნიშნები დაუსახლებელ პუნქტში განმეორებით იდგმება სახიფათო მონაკვეთის დასაწყისამდე, არანაკლებ:

1

150 მეტრის მანძილზე

2

100 მეტრის მანძილზე

3

50 მეტრის მანძილზე



მოცემული საგზაო ნიშანი, 8.1.1 (მანძილი თბიექტამდე) დაფის გარეშე სავალ ნაწილზე ხანმოკლე სამუშაოს ჩატარებისას, სამუშაოს ჩატარების ადგილიდან იდგმება:

1

30 მეტრის მანძილზე

2

10-15 მეტრის მანძილზე

3

50 მეტრის მანძილზე

ბილეთი N: 617; სწორი პასუხი:3



მოცემული საგზაო ნიშნების კომბინაციიდან რომელი იდგმება დაუსახლებელ პუნქტში, რკინიგზის უშლაგბაუმთ გადასასვლელამდე 150-300 მეტრის მანძილზე, გზის მარჯვენა მხარეს?

1

2

3

4

ბილეთი N: 619; სწორი პასუხი:1



მოცემული საგზაო ნიშნების კომბინაციიდან რომელი იდგმება დაუსახლებელ პუნქტში, რკინიგზის უშლაგზაუმო გადასასვლელამდე, 150-300 მეტრის მანძილზე, გზის მარცხენა მხარეს?

1

2

3

4



I



II



III



IV

მოცემული საგზაო ნიშნებიდან რომელი აფრთხილებს მძღოლს წრულმობრუნებთან გზაჯვარედინთან მიახლოების თაობაზე?

1

მხოლოდ I და II

2

მხოლოდ II

3

მხოლოდ I და III

4

მხოლოდ IV

ბილეთი N: 624; სწორი პასუხი:1



I



II



III



IV

მოცემული საგზაო ნიშნებიდან რომელი აღნიშნავს მცირერადიუსიან ან შეზღუდულ ხილვადობის მქონე გზის სახიფათო მოსახვევს?

1

2

3

4

ბილეთი N: 629; სწორი პასუხი:1



I



II



III



IV

მოცემული საგზაო ნიშნებიდან რომელი აფრთხილებს ციცაბოტალღმართიან გზის მონაკვეთთან მიასვლელების თაობაზე?

1

2

3

4



I



II



III



IV

მთვემული საგზაო ნიშნებიდან რომელი აღნიშნავს გზის მონაკვეთს, რომლის გზისპირის მდგომარეობა არ შეესაბამება არსებულ სტანდარტებს?

1

2

3

4

ბილეთი N: 637; სწორი პასუხი:2



I



II



III



IV

მოცემული საგზაო ნიშნებიდან რომელი აღნიშნავს გზის მონაკვეთს, რომლის სავალი ნაწილის სიგანე ვინროვდება მარცხენა მხრიდან?

1

2

3

4



I



II



III



IV

მოცემული საგზაო ნიშნებიდან რომელი აფრთხილებს საგზაო ნიშნით (5.19.1 ან 5.19.2) ან/და საგზაო მონიშვნით (1.14.1-1.14.3) აღნიშნულ ქვეითთა გადასასვლელთან მიახლოების თაობაზე?

1

2

3

4



I



II



III



IV

მოცემული საგზაო ნიშნებიდან რომელი აფრთხილებს გზის მონაკვეთთან საბავშვო დაწესებულებების არსებობის თაობაზე, საიდანაც დიდია სავალ ნაწილზე ბავშვების გამოჩენის ალბათობა?

1

2

3

4



I



II



III



IV

მთვემული საგზაო ნიშნებიდან რომელი აღნიშნავს გზის მონაკვეთს, რომლის ფარგლებში მიმდინარეობს სამუშაოები?

1 I

2 II

3 III

4 IV



I



II



III



IV

მოცემული საგზაო ნიშნებიდან რომელი აღნიშნავს გზის მონაკვეთს, რომლის სავალი ნაწილი არ არის დაცული ზვავისაგან, მენყერისაგან და ქვების ცვენისგან?

1

2

3

4



I



II



III



IV

მთვემული საგზაო ნიშნებიდან რომელი აღნიშნავს აეროდრომებთან ახლოს გამავალ გზის მონაკვეთს, რომლებზედაც თვითმფრინავები ან ვერტმფრენები დაბალ სიმაღლეზე დაფრინავენ?

1

2

3

4

ბილეთი N: 649; სწორი პასუხი:3



I



II



III



IV

მოცემული საგზაო ნიშნებიდან რომელი აღნიშნავს გზის მონაკვეთს, რომელიც დროებით ჩახერგილია?

1

2

3

4

ბილეთი N: 650; სწორი პასუხი:3



I



II



III



IV

მოცემული საგზაო ნიშნებიდან რომელი აღნიშნავს გზის მონაკვეთს, რომელზედაც შეიძლება წარმოიშვას ისეთი სახის საფრთხე, რომელიც არ არის განსაზღვრული სხვა მათრობილებელი ნიშნებით?

1

2

3

4

ბილეთი N: 652; სწორი პასუხი:4



I



II



III



IV

მოცემული საგზაო ნიშნებიდან რომელი აღნიშნავს "T"-სებურ გზაჯვარედინზე ან გზების განშტოებაზე მოძრაობის მიმართულებას, ან საგზაო სამუშაოების მიმდინარეობის ადგილებში - შემოვლის მიმართულებას?

1

2

3

4

ბილეთი N: 653; სწორი პასუხი:1



I



II



III



IV

მოცემული საგზაო ნიშნებიდან რომელი აღნიშნავს გზას, რომელზედაც მოძრაობა მძღოლს ენიჭება არარეგულირებული გზაჯვარედინის გავლის უპირატესობა?

1

2

3

4



მოცემული საგზაო ნიშანი:

1

აღნიშნავს გზას, რომელზედაც მოძრავე მძღოლს ენიჭება არარეგულირებელი გზაჯვარედინის გავლის უპირატესობა

2

ვრძალავს სახიფათო ტვირთის გადამზიდი ავტომობილების მოძრაობას

3

აღნიშნავს გზას, რომელზედაც მოძრავე მძღოლი ვალდებულია გზა დაუთმოს გადასავვეთ გზაზე მოძრავე სატრანსპორტო საშუალებას

ბილეთი N: 655; სწორი პასუხი:3



I



II



III



IV

მოცემული საგზაო ნიშნებიდან რომელი აღნიშნავს გზის იმ მონაკვეთის ბოლოს, საიდანაც ის კარგავს მთავარი გზის სტატუსს?

1

2

3

4

ბილეთი N: 657; სწორი პასუხი:2



I



II



III



IV

მოცემული საგზაო ნიშნებიდან რომელი აღნიშნავს ისეთ გზასთან გადაკვეთას, რომელზე მოძრავე მძღოლსაც აქვს გზის დათმობის ვალდებულება?

1

2

3

4

ბილეთი N: 658; სწორი პასუხი:2



I



II



III



IV

მოცემული საგზაო ნიშნებიდან რომელი აღნიშნავს ისეთ გზასთან შეერთებას, რომელზე მოძრავე მძღოლსაც აქვს გზის დათმობის ვალდებულება?

1

მხოლოდ II და IV

2

მხოლოდ I და III

3

მხოლოდ II

4

მხოლოდ III

ბილეთი N: 659; სწორი პასუხი:3



I



II



III



IV

მოცემული საგზაო ნიშნებიდან რომელი აღნიშნავს ისეთ გზასთან შეერთებას, რომელზე მოძრავე მძღოლსაც აქვს გზის დათმობის ვალდებულება?

1

მხოლოდ II და III

2

მხოლოდ I და IV

3

ყველა

4

არცერთი



მოცემული საგზაო ნიშანი:

1

უკრძლავს მძღოლს გზის ვიწრო მონაკვეთზე შესვლას

2

კრძლავს ყველა სახის სატრანსპორტო საშუალების მოძრაობას

3

ავალდებულებს მძღოლს გზა დაეთმოს გადასავლეთ გზაზე მოძრავ სატრანსპორტო საშუალებების მძღოლებს



მოცემული საგზაო ნიშანი:

1

ვრძალავს ყველა სატრანსპორტო საშუალებით შესვლას მოცემული მიმართულებით

2

ვრძალავს ნებისმიერი სახის სატრანსპორტო საშუალებით მოძრაობას

3

უვრძალავს მძღოლს მოძრაობის გაგრძელებას გაუმჩრეხებლად, აგრეთვე ავადმჯობელებს მას გზა დაეთმოს გადასავლეთ გზაზე მოძრაგ სატრანსპორტო საშუალების მძღოლებს

ბილეთი N: 666; სწორი პასუხი:3



I



II



III



IV

მოცემული საგზაო ნიშნებიდან რომელი ანიჭებს მძღოლს უპირატესობას საპირისპირო მიმართულებით მოძრავ სატრანსპორტო საშუალებასთან შედარებით, გზის ვიწრო მონაკვეთზე მოძრაობისას?

1

2

3

4

ბილეთი N: 668; სწორი პასუხი:1



I



II



III



IV

მოცემული საგზაო ნიშნებიდან რომლის მოქმედების ზონაში ენიჭება მძღვლს არარეგულირებელი გზაჯვარედინის გავლის უპირატესობა?

1 მხოლოდ II და IV

2 მხოლოდ I და III

3 არცერთის

4 ყველას



I



II



III



IV

თუ სხვა აუცილებლობა არ არსებობს, მოცემული საგზაო ნიშნები დაუსახლებელ პუნქტში იდგმება სასიფათო მონაკვეთის დასაწყისამდე:

1

50-100 მეტრის მანძილზე

2

100-150 მეტრის მანძილზე

3

150-300 მეტრის მანძილზე

4

300-400 მეტრის მანძილზე

ბილეთი N: 672; სწორი პასუხი:3



I



II



III



IV

ამ საგზაო ნიშნებიდან რომელი კრძალავს ყველა სახის სატრანსპორტო საშუალებით შესვლას მოცემული მიმართულებით?

1

2

3

4

ბილეთი N: 674; სწორი პასუხი:1



I



II



III



IV

მთვემული საგზაო ნიშნებიდან რომელი კრძალავს ყველა სახის სატრანსპორტო საშუალებით მოძრაობას?

1

2

3

4

ბილეთი N: 676; სწორი პასუხი:2



I



II



III



IV

მოცემული საგზაო ნიშნებიდან რომელი კრძალავს ყველა სახის მექანიკური სატრანსპორტო საშუალებით მოძრაობას?

1

2

3

4



მოცემული საგზაო ნიშანი ვრძალებს:

1

ყველა სახის ორთღვლიანი სატრანსპორტო საშუალებით მოძრაობას

2

მხოლოდ უეტლო მოტოციკლით მოძრაობას

3

ყველა სახის მოტოციკლით და მოპედით მოძრაობას



მოცემული საგზაო ნიშანი:

1

ვრძალავს ქვეითთა მოძრაობას გზაზე არსებული საფრთხის გამო

2

ავალდებულებს მძღოლებს გადაადგილდნ მანქიმალური სიფრთხილით, არაუმეტეს 20 კმ/სთ სიჩქარისა

3

ვრძალავს ყველა სახის სატრანსპორტო საშუალებით შემდგომ მოძრაობას, საგზაო-სატრანსპორტო შემთხვევის ან სხვა საფრთხის გამო



მოცემული საგზაო ნიშანი კრძალავს:

1

ავტომობილებით შემდგომ მოძრაობას გზაზე არსებული საფრთხის გამო

2

საკონტროლო პუნქტთან (პოლიციის ან საჯარანტინო საგუშაგოსთან, სასაზღვრო ან დახურულ ზონაში შესასვლელებთან, ფასიან გზებზე გასასვლელებთან და ა.შ.) გაემჩერებლად გავლას

3

სატრანსპორტო საშუალებით შემდგომ მოძრაობას, საგზაო-სატრანსპორტო შემთხვევის გამო



მოცემული საგზაო ნიშანი:

1

ვრძალავს საგალი ნაწილებს უახლოეს გადაკვეთაზე მობრუნებას

2

ავალდებულებს მძღოლს, იმოძრაოს მხოლოდ მარჯვნივ

3

ვრძალავს საგალი ნაწილებს უახლოეს გადაკვეთაზე მარჯვნივ მოხვევას



მოცემული საგზაო ნიშანი:

1

ვრძლავს სავალი ნაწილების უახლოეს გადაკვეთაზე მობრუნებას

2

ვრძლავს სავალი ნაწილების უახლოეს გადაკვეთაზე მარცხნივ მოხვევას

3

ავალდებულებს მძღოლს იმოდროს მხოლოდ მარცხნივ



მოცემული საგზაო ნიშანი:

1

ვრძალავს სავალი ნაწილების უახლოეს გადაკვეთაზე მობრუნებას

2

ვრძალავს სავალი ნაწილების უახლოეს გადაკვეთაზე მარცხნივ მოხვევას

3

ავალდებულებს მძღოლს, იმორჩაოს მხოლოდ მარცხნივ და უკუმიმართულებით



მოცემული საგზაო ნიშანი კრძალავს:

1

ნებისმიერი სახის სატრანსპორტო საშუალების გასწრებას, მიუხედავად მისი სიჩქარისა

2

მსუბუქი ავტომობილისაგან განსხვავებული სხვა სატრანსპორტო საშუალებით მოძრაობას

3

კრძალავს ნებისმიერი სახის მექანიკური სატრანსპორტო საშუალების გასწრებას (გარდა 30 კმ/სთ-ზე ნაკლები სიჩქარით მოძრაობისა ტრანსპორტისა)



მოცემული საგზაო ნიშანი:

1

მოდრობის ნებას რთავს მხოლოდ ნიშანზე მითითებული, ან მეტი (კმ/სთ) სიჩქარით

2

კრძალავს მოძრაობას ნიშანზე აღნიშნულზე მეტი სიჩქარით(კმ/სთ)

3

მოუთხოვს მანძილს ნიშნიდან სახილათო მონაკვეთის დასაწყისამდე



მოცემული საგზაო ნიშანი:

1

ვრძალავს ნებისმიერი სახის სატრანსპორტო საშუალების გასწრებას

2

აღნიშნავს საგზაო ნიშნის 3.20-ის (გასწრება ავრძალეულია) მოქმედების ზონის დასასრულს

3

ვრძალავს ხმოვანი სიგნალით სარგებლობას, გარდა იმ შემთხვევისა, როცა სიგნალი გამოიყენება საგზაო-სატრანსპორტო შემთხვევის თავიდან ასაცილებლად



I



II



III



IV

მოცემული საგზაო ნიშნებიდან რომელი აღნიშნავს საგზაო ნიშნის 3.24-ის („მაქსიმალური სიჩქარის შეზღუდვა“) მოქმედების ზონის დასასრულს?

1

2

3

4

ბილეთი N: 734; სწორი პასუხი:3



I



II



III



IV

მოცემული საგზაო ნიშნებიდან რომლის მოქმედების ზონაში იკრძალება სატრანსპორტო საშუალებით დგომა?

1

მხოლოდ II

2

მხოლოდ IV

3

მხოლოდ I და III

4

მხოლოდ I და IV

ბილეთი N: 736; სწორი პასუხი:2



I



II



III



IV

მოცემული საგზაო ნიშნებიდან რომელი ვრძლავს სატრანსპორტო საშუალებების დგომას თვის კენტ რიცხვებში?

1

2

3

4



I



II



III



IV

მოცემული საგზაო ნიშნებიდან რომლის მოქმედება არ ვრცელდება სატრანსპორტო საშუალებაზე, რომელიც ემსახურება ნიშნის მოქმედების ზონაში მდებარე საწარმოს?

1

მხოლოდ I და II

2

მხოლოდ I და III

3

მხოლოდ II და IV

4

მხოლოდ III და IV



I



II



III



IV

მოცემული საგზაო ნიშნებიდან რომლის მოქმედება არ ვრცელდება სატრანსპორტო საშუალებაზე, რომელიც ემსახურება ან ეკუთვნის ნიშნის მოქმედების ზონაში მცხოვრებ ან მომუშავე პირს?

1

მხოლოდ I და II

2

მხოლოდ I და III

3

მხოლოდ III და IV

4

ყველა მოცემული საგზაო ნიშნის



I



II



III



IV

მოცემული საგზაო ნიშნებიდან რომლის მოქმედება არ ვრცელდება სატრანსპორტო საშუალებაზე, რომელიც ემსახურება ან ეკუთვნის ნიშნის მოქმედების ზონაში მცხოვრებ ან მომუშავე პირს?

1 მხოლოდ II და IV

2 მხოლოდ II

3 მხოლოდ I და IV

4 მხოლოდ III და IV

ბილეთი N: 759; სწორი პასუხი:1



I



II

მოცემული საგზაო ნიშნების მოქმედება ვრცელდება:

1

სავალი ნაწილების იმ გადაკვეთაზე, რომლის წინაც დადგმულია ნიშანი

2

გზის იმ მხარეზე, რომელზედაც ისინია დადგმული



მოცემული საგზაო ნიშანი მიითვლება:

1

გზას, რომელზედაც მოძრაობს მძღოლს გააჩნიათ გზის დათმობის ვალდებულება

2

გზის თავზე გამავალ ხიდს ან ესტაკადას

3

ავტომაგისტრალს, რომელზედაც მოქმედებს ავტომაგისტრალზე მოძრაობის მომწესრიგებელი ნორმების მოთხოვნები



მოცემული საგზაო ნიშანი მიუთითებს:

1

გზას, რომელიც განკუთვნილია მხოლოდ ავტომობილისა და მოტოციკლის მოძრაობისათვის

2

მოძრაობის ზოლს, რომელიც განკუთვნილია მხოლოდ მსუბუქი ავტომობილებით მოძრაობისათვის

3

სატრანსპორტო საშუალებების დგომის ადგილს



I



II



III



IV

მთვემული საგზაო ნიშნებიდან რომელი მოუთხოვს გზას ან სავალ ნაწილს, რომელზედაც სატრანსპორტო საშუალებების მოძრაობა მთელ სივანეზე ხორციელდება ერთი მიმართულებით?

1

2

3

4



მოცემული საგზაო ნიშნები:

1

მიუთითებენ ქალმხრივმოდრაობიან გზაზე ან სავალ ნაწილზე გასვლას

2

აღნიშნავენ მოძრაობის ზოლის დასაწყისს

3

აღნიშნავენ ავტობუსების მოძრაობისათვის გამოყოფილ ზოლს

ბილეთი N: 779; სწორი პასუხი:1




I



II



III



IV

მთვემული საგზაო ნიშნებიდან რომელი მიუთითებს რევერსული მოძრაობის მქონე გზის მონაკვეთის დასაწყისს?

1

2

3

4

ბილეთი N: 781; სწორი პასუხი:2



მოცემული საგზაო ნიშანი შეუთითებს:

1

ორმხრივმოძრაობიანი გზის დასასრულს

2

რევერსული მოძრაობიანი გზის მონაკვეთის დასასრულს

3

გაქანების ზოლის დასასრულს



I



II



III



IV

მთვემული საგზაო ნიშნებიდან რომელი მითითებს გზას, რომელზედაც სამარშრუტო სატრანსპორტო საშუალება მოძრაობს სპეციალურად გამოყოფილ ზოლზე სატრანსპორტო საშუალებათა საერთო ნაკადის საპირისპირო მიმართულებით?

1

2

3

4



I



II



III



IV

მოცემული საგზაო ნიშნებიდან რომელი მითითებს გზას, რომელზედაც სამარშრუტო სატრანსპორტო საშუალებების მოძრაობა ხორციელდება სპეციალურად გამოყოფილ ზოლზე, სატრანსპორტო საშუალებათა საერთო ნაკადის თანხვედრი მიმართულებით?

1

2

3

4



I



II



III



IV

მოცემული საგზაო ნიშნებიდან რომელი მიუთითებს ტერიტორიას (ზონას), სადაც მოქმედებს საცხოვრებელ ზონაში მოძრაობისათვის დამდგენი წესები?

1

2

3

4



სამტრედიის რაიონი

გურჯაანი

I

II

III

მოცემული საგზაო ნიშნებიდან რომელი მიუთითებს იმ დასახლებული პუნქტის დასაზღვრის, სადაც მოქმედებს დასახლებულ პუნქტებში მოძრაობის წესრიგის დამდგენი წესების მოთხოვნები?

1 მხოლოდ I და III

2 მხოლოდ II და III

3 მხოლოდ I და II





I



II



III



IV

მოცემული საგზაო ნიშნებიდან რომელი აღნიშნავს ტერიტორიას, რომლის ფარგლებში შეზღუდულია მოძრაობის მაქსიმალური სიჩქარე?


1

2

3

4

ბილეთი N: 800; სწორი პასუხი:3



ისრის მიმართულებით მოძრაობს, რომელი სატრანსპორტო საშუალების მძღოლი არღვევს საგზაო მოძრაობის წესებს?

- | | |
|----------------------------------|--|
| 1 მხოლოდ მოტოციკლის მძღოლი | 2 მხოლოდ ყვითელი ავტომობილის მძღოლი |
| 3 მხოლოდ შავი ავტომობილის მძღოლი | 4 არცერთი სატრანსპორტო საშუალების მძღოლი |

საგზაო-სატრანსპორტო შემთხვევის შედეგად დაზარებულის ჭრილობიდან ვენური სისხლდენის დამახასიათებელი ნიშნებია:

1

ტანსაცმელი გაფენილია აღისფერი სისხლით, რომელიც ჭრილობიდან გამოედინება პულსირებული ნაკადით

2

ტანსაცმელი ნელა იფლნობება მუქი ფერის სისხლით, რომელიც ჭრილობიდან გამოედინება სუსტი ნაკადით

გზაზე ან მის სიახლოვეს ბავშვის დანახვის შემთხვევაში, მძღოლმა უნდა:

1

გააჩეროს სატრანსპორტო საშუალება და ჩართოს საავარიო შექსიგნალიზაცია

2

გამოიჩინოს განსაკუთრებული სიფრთხილე და იმოძრაოს სიჩქარით, რომელიც თავიდან ააცილებს საფრთხეს და აუცილებლობის შემთხვევაში მკვეთრი დამუხრუჭების გარეშე გაჩერების შესაძლებლობას მისცემს

3

გაზარდოს სიჩქარე, რათა დროულად გაიაროს აღნიშნული გზის მონაკვეთი

გზაზე გაჩერებული ავტობუსის დანახვისას, რომელზეც დამაგრებულია საცნობი ნიშანი - „ბავშვების გადაყვანა“, მძღოლი ვალდებულია:

1

მისცეს ხმოვანი სიგნალი და გაიაროს შეუჩერებლივ

2

გააჩეროს სატრანსპორტო საშუალება და არ დაძრას იგი, სანამ აღნიშნული ავტობუსი არ გააგრძელებს მოძრაობას

3

გამოიჩინოს განსაკუთრებული სიფრთხილე და იმოძრაოს სიჩქარით, რომელიც თავიდან ააცილებს საფრთხეს და აუცილებლობის შემთხვევაში მკვეთრი დამუხრუჭების გარეშე შეძლებს გაჩერებას

ვალდებულია თუ არა გზაზე მოძრავი სატრანსპორტო საშუალების მძღოლი, გზა დაუთმოს თეთრი ფერის ხელჯოხით მოძრავ უსინათლო ქვეითს, რომელიც კვეთს საგზაო ნაწილს?

- 1 ვალდებულია ყველა შემთხვევაში
- 2 ვალდებულია, მხოლოდ იმ შემთხვევაში, თუ უსინათლო ქვეითი მოძრაობს რეგულირებულ ქვეითთა გადასასვლელებზე
- 3 არ არის ვალდებული

აქვს თუ არა უფლება მოტოციკლის მძღოლს გზაზე იმოძრაოს ისე, რომ მისი სატრანსპორტო საშუალების მხოლოდ ერთი თვალი ეხებოდეს გზის ზედაპირს?

1

აქვს უფლება ნებისმიერ შემთხვევაში

2

აქვს უფლება მხოლოდ დაესახლებულ პუნქტებში

3

არა აქვს უფლება

არასაკმარისი ან შეზღუდული ხილვადობის პირობებში, მძღოლმა უნდა:

1

ჩართოს საავტომობილო შექსიგნალიზაცია და შეამციროს დისტანცია მისი და მის წინ მიმავალ სატრანსპორტო საშუალებას შორის

2

შეამციროს სიჩქარე და გაზარდოს დისტანცია მისი და მის წინ მიმავალ სატრანსპორტო საშუალებას შორის

3

ჩართოს საავტომობილო შექსიგნალიზაცია და იმოძრაოს სავალი ნაწილის უკიდურეს მარცხენა მხარეს

გზის ნათელი მონაკვეთიდან ბნელ მონაკვეთზე გასვლისას, მძღოლმა უნდა გაითვალისწინოს, რომ:

1

სავალდებულოა ნისლსაწინააღმდეგო ფარების ჩართვა

2

იზრდება სატრანსპორტო საშუალების დამუხრუჭებისათვის საჭირო დრო და მანძილი

3

თვალი ნელა ეჩვევა სიბნელეს, რის გამოც მძღოლის წინ არსებული შესაძლო დაბრკოლებები რთული შესამჩნევია

მოყინულ გზის მონაკვეთზე მძღოლმა:

1

შეძლებისდაგვარად თავი უნდა აარიდოს დამუხრუჭებას, სიჩქარის ცვლილებასა და მიმართულების მკვეთრ შეცვლას

2

დამუხრუჭებისათვის დამატებით უნდა გამოიყენოს ხელის მუხრუჭი

3

მიმართულების შეცვლა უნდა განახორციელოს საჭის მკვეთრი მობრუნებითა და სიჩქარის მომატებით

წვიმისა და თოვის დროს მოძრაობისას, მძღოლმა უნდა:

1

შემციროს დისტანცია მასსა და მის წინ მიმავალ სატრანსპორტო საშუალებას შორის

2

შემციროს სიჩქარე და გაზარდოს დისტანცია მასსა და მის წინ მიმავალ სატრანსპორტო საშუალებას შორის

3

ჩართოს საავტომობილო შეუსიგნალიზაცია

დიდი ხნის განმავლობაში მაღალი სიჩქარით სატრანსპორტო საშუალებით მოძრაობა იწვევს:

1

სატრანსპორტო საშუალების სამუხრუჭო სისტემის მწყობრიდან გამოსვლას

2

მძღოლის კონცენტრაციისა და მაღალი სიჩქარის შეგრძნების დაქვეითებას

3

ამ ბილეთში ჩამოთვლილ ყველა გარემოებას

დასასაღებულ პუნქტში, ნორმალური მოძრაობის პირობებში ერთმანეთის მიყოლებით მოძრავი სატრანსპორტო საშუალებათა შორის არსებული დისტანციის დასაფარად საჭირო დრო უნდა იყოს:

1

არა უმეტეს 2 წამისა

2

არანაკლებ 2 წამისა

3

არა უმეტეს 5 წამისა

4

არანაკლებ 7 წამისა

დაუსახლებულ პუნქტში, ნორმალური მოძრაობის პირობებში, ერთმანეთის მიყოლებით მოძრავ სატრანსპორტო საშუალებათა შორის არსებული დისტანციის დასაფარად საჭირო დრო უნდა იყოს:

1

არა უმეტეს 4 წამისა

2

არანაკლებ 3 წამისა

3

არანაკლებ 6 წამისა

4

არა უმეტეს 9 წამისა

დასახლებულ პუნქტში, მოყინულ გზაზე, ერთმანეთის მიყოლებით მოძრავი სატრანსპორტო საშუალებათა შორის არსებული დისტანციის დასაფარად საჭირო დრო უნდა იყოს:

1

არა უმეტეს 2 წამისა

2

არანაკლებ 4 წამისა

3

არანაკლებ 6 წამისა

4

არანაკლებ 9 წამისა

დაუსახლებულ პუნქტში, მოყინულ გზაზე, ერთმანეთის მიყოლებით მოძრავი სატრანსპორტო საშუალებათა შორის არსებული დისტანციის დასაფარად საჭირო დრო უნდა იყოს:

- 1 არა უმეტეს 4 წამისა
- 2 არანაკლებ 6 წამისა
- 3 არანაკლებ 9 წამისა
- 4 12 წამზე ნაკლები

12 წლამდე ასაკის ბავშვის გადაყვანა ნებადართულია:

1

მსუბუქ ავტომობილის წინა სავარძლით

2

მოპედით

3

მოტოციკლით

4

ამ ბილეთში ჩამოთვლილი არც ერთი პასუხი არ არის სწორი

საგზაო-სატრანსპორტო შემთხვევის შედეგად დაშავებულის კიდურების დაზიანების შემთხვევაში არტერიული სისხლდენის შემამჩერებელი ლასტი უნდა დავადოთ ჭრილობის:

1

ადგილის ზემოთ

2

ადგილის ქვემოთ

3

ადგილზე

თუ მძღოლი სხვა გზაზე შესასვლელად მოხვევას ასრულებს, რომლის შესასვლელთანაც მდებარეობს ქვეითთა გადასასვლელი, მან ეს უნდა შეასრულოს:

1

მხოლოდ დაბალი სიჩქარით, ხოლო საჭიროების შემთხვევაში გაჩერდეს და გაატაროს გადასასვლელზე შესული ან შემავალი ქვეითები

2

ნებისმიერი სიჩქარით, ვინაიდან გადასასვლელზე შესული ან შემავალი ქვეითების მიმართ სარგებლობს პრიორიტეტით

3

მხოლოდ მაღალი სიჩქარით, რათა დროულად გაიაროს გზის აღნიშნული მონაკვეთი

„გამყოფი ზოლი“ არის:

1

გზის ნაწილი, რომელიც ჩვეულებრივ ურელსო სატრანსპორტო საშუალებების მოძრაობისთვის გამოიყენება

2

გრძივი საგზაო მონიშვნის საშუალებით მონიშნული ან მოუნიშნავი ნებისმიერი ზოლი იმ გრძივი ზოლებიდან, რომლებდაც შეიძლება დაიყოს გზის სავალი ნაწილი

3

კონსტრუქციულად გამოყოფილი გზის ელემენტი, რომელიც ყოფს მომიჯნავე სავალ ნაწილებს და არ არის განკუთვნილი მასზე ურელსო სატრანსპორტო საშუალების მოძრაობისათვის

„გასწრება“ ნიშნავს:

1

დაკავებული ზოლიდან გამოსვლით, იმავე ზოლში თანხვედნილი მიმართულებით, წინ მოძრავი ერთი ან რამდენიმე სატრანსპორტო საშუალების გადასწრებას

2

თანხვედრი მიმართულებით მოძრაობის ზოლებში სატრანსპორტო საშუალების უფრო სწრაფ მოძრაობას, ვიდრე სავალი ნაწილის ნაპირთან ახლოს მდებარე ზოლებში მოძრავი სატრანსპორტო საშუალებისა

3

მეზობელ მოძრაობის ზოლში საპირისპირო მიმართულებით მოძრავი ერთი ან რამდენიმე სატრანსპორტო საშუალების გვერდის აქცევას

„გაჩერება“ ნიშნავს:

1

სატრანსპორტო საშუალების მოძრაობის წინასწარგანზრახულ შეწყვეტას სატრანსპორტო ნაკადში

2

სატრანსპორტო საშუალების მოძრაობის წინასწარგანზრახულ შეწყვეტას საგზაო მოძრაობის ორგანიზების ტექნიკური საშუალებების ან მარეგულირებელის მოთხოვნათა გამო

3

სატრანსპორტო საშუალების მოძრაობის წინასწარგანზრახულ შეწყვეტას 5 წუთამდე, ან უფრო მეტი ხნით, თუ ეს აუცილებელია მგზავრთა ჩასხდომა-გადმოსხდომისათვის ან სატრანსპორტო საშუალების დატვირთვა-გადმოტვირთვისათვის

გარდა სავალი ნაწილისა, ქვემოთ ჩამოთვლილი რომელ ელემენტს შეიძლება მოიცავდეს გზა?

1

მხოლოდ ტრამვაის ლიანდაგს და ტროტუარს

2

მხოლოდ გვერდულას და გამყოფ ზოლს

3

მხოლოდ ველობილივს

4

როგორც ტრამვაის ლიანდაგს, ასევე ტროტუარს, გვერდულას, გამყოფ ზოლსა და ველობილივს

„გზატვარედინი“ არის:

1

ერთ დონეზე გზების კვეთა, შეერთება ან განშტოება, ასეთი კვეთით, შეერთებით ან განშტოებით წარმოქმნილი ტერიტორიების ჩათვლით

2

მიმდებარე ტერიტორიებიდან გამოსასვლელებისა და გზების კვეთა

3

სხვადასხვა დონეზე არსებული სავალი ნაწილების კვეთა

„დღე-ღამის ბნელი დრო“ ნიშნავს:

- 1 დროის შუალედს 18 საათიდან 24 საათამდე
- 2 დროის შუალედს გათენებიდან დაბინდებამდე
- 3 დროის შუალედს დაბინდებიდან გათენებამდე

„კონსტრუქციული სიჩქარე“ არის:

1

ქარხანა-დამამზადებლის მიერ განსაზღვრული სატრანსპორტო საშუალების მაქსიმალური სიჩქარე

2

მოცემულ გზის მონაკვეთზე, სატრანსპორტო საშუალებისათვის დადგენილი სიჩქარის მაქსიმალური ზღვარი

3

სატრანსპორტო საშუალებაზე დამაგრებულ საცნობ ნიშანზე „სიჩქარის შეზღუდვა“ - მითითებული სიჩქარე

„მიმდებარე ტერიტორია“ არის:

1

ტერიტორია, რომელიც უშუალოდ გხას ეკვრის და არ არის განკუთვნილი სატრანსპორტო საშუალების გამჭოლი მოძრაობისათვის (ეზო, საცხოვრებელი მასივი, ავტოსადგომი, ბენზინგასამართი სადგური, დანესებულება და სხვა)

2

გზის ელემენტი, რომელიც განკუთვნილია ურელსო სატრანსპორტო საშუალების მოძრაობისათვის (გარდა ტროტუარისა, გვერდულისა, ველობილიკისა და ქვეითთა ბილიკისა)

3

ერთ დონეზე გზების კვეთა, შეერთება ან განშტოება, ასეთი კვეთით, შეერთებით ან განშტოებით წარმოქმნილი ტერიტორიების ჩათვლით

„ტროტუარი“ არის:

1

გზის ელემენტი, რომელიც მიერთებულია სავალ ნაწილთან ან გამოყოფილია მისგან კონსტრუქციულად ან გაზონით და განკუთვნილია ქვეითის მოძრაობისათვის

2

ქვეითთა მოძრაობისათვის განკუთვნილი, გზისგან განცალკევებული ბილივი

3

ქვეითთა მოძრაობისათვის განკუთვნილი ნებისმიერი გზა

„ქვეითა ბილიკი“ არის:

1

გზის ელემენტი, რომელიც მიერთებულია სავალ ნაწილთან და განკუთვნილია ქვეითის მოძრაობისათვის

2

ქვეითთა მოძრაობისათვის განკუთვნილი, გზისგან განცალკევებული ბილიკი. ქვეითთა ბილიკი შეიძლება აღნიშნული იქნეს შესაბამისი საგზაო ნიშნით

3

გზის ნებისმიერი მონაკვეთი, რომელიც განკუთვნილია ქვეითთა მოძრაობისათვის

„შეზღუდული ხილვადობა“ არის:

- 1 გვირაბში გავლისას, დღე-ღამის ბნელ დროს, ნისლის, წვიმის, თოვის და სხვა ბუნებრივი მოვლენების დროს გზის ხილვადობის 300 მეტრზე ნაკლებ მანძილზე შემცირება
- 2 გარემოება, რომლის დროსაც მოკლე მოსახვევი, აღმართის დასასრული, გამწვანება, გზისპირა ნაგებობა ან გზაზე არსებული დაბრკოლება მოძრაობის მიმართულებით გზის ხილვადობას ისე ამცირებს, რომ აღნიშნულ გზის მონაკვეთზე ნებადართული მაქსიმალური სიჩქარით მოძრაობამ შეიძლება საფრთხე წარმოშვას



დაუსახლებელ პუნქტებში, იმ ორმხრივ მოძრაობიან გზაზე, რომელზეც არ არის გამყოფი ზოლი და ტროტუარი, მოტოციკლის ხელით გადაწყვეანმა პირმა გადაადგილების მიზნით უნდა დაიკავოს:

1

სავალი ნაწილის მარჯვენა მხარე

2

სავალი ნაწილის მარცხენა მხარე

3

ნებისმიერი მოძრაობის ზოლი

საქართველოს ყველა გზაზე მოძრაობის მიმართულება დადგენილია:

- 1 მარცხენა მხარეს
- 2 მარჯვენა მხარეს
- 3 როგორც მარცხენა, ასევე მარჯვენა მხარეს

შესაბამისი საგზაო ნიშნებისა და მონიშვნების არარსებობის შემთხვევაში, ურელსო სატრანსპორტო საშუალებათა მოძრაობისათვის ზოლების რაოდენობა განისაზღვრება:

1

თვით მძღოლის მიერ, სავალი ნაწილის სიგანის, სატრანსპორტო საშუალებების გაბარიტებისა და მათ შორის აუცილებელი ინტერვალის გათვალისწინებით

2

ადგილობრივი თვითმართვლობის ორგანოს მიერ

3

კონონით, რომლის თანახმად ასეთი სახის გზა ითვლება ცალხმრივ მოძრაობიან გზად

იმ ორმხრივმოძრაობიან გზაზე, რომელსაც აქვს გამყოფი ზოლი, საპირისპირო მიმართულების მოძრაობის მხარედ ითვლება:

1

გამყოფი ზოლის მარცხნივ არსებული საგალი ნაწილი

2

გამყოფი ზოლის მარჯვნივ არსებული საგალი ნაწილი

3

ამ ბილეთში ჩამოთვლილი არცერთი

თუ საგზაო მოძრაობის ორგანიზებით სხვა რამ არ არის გათვალისწინებული ორი ან სამი სავალი ნაწილის მქონე გზაზე, სატრანსპორტო საშუალების მძღოლს ეკრძალება:

1

თანხვედრი მიმართულების მოძრაობის მხარის სავალ ნაწილზე მოძრაობის ზოლის შეცვლა

2

საპირისპირო მიმართულების მოძრაობის მხარის სავალ ნაწილზე გასვლა



ორმხრივმოძრაობიანი გზის სავალი ნაწილის ღერძზე განლაგებულ უსაფრთხოების კუნძულს ან ტუმბოს მძღოლმა უნდა შემოუაროს:

1

მხოლოდ მარცხენა მხრიდან

2

მხოლოდ მარჯვენა მხრიდან

3

მარჯვენა ან მარცხენა მხრიდან

თუ მძღოლი ვერ განსაზღვრავს გზაზე სატარის არსებობას (სიბნელის, თოვლის, ტალახის გამო ან სხვა მიზეზით) და არც პრიორიტეტის ნიშნებია, ითვლება, რომ ის იმყოფება:

- 1 მეორეხარისხოვან გზაზე
- 2 მთავარ გზაზე
- 3 ავტომაგისტრალთან გათანაბრებულ გზაზე

საპირისპირო მიმართულებიდან მომავალი მექანიკური სატრანსპორტო საშუალების ღარების შექით თვალის მოჭრის შემთხვევაში, მძღოლი ვალდებულია:

1

შეანელოს სიჩქარე, რაც შეიძლება სწრაფად გადაეწყოს უკიდურეს მარჯვენა მოძრაობის ზოლში და აუცილებლობის შემთხვევაში გაჩერდეს

2

ღარების შექის პერიოდული გადართვით მიანიშნოს შემხვედრი სატრანსპორტო საშუალების მძღოლს აღნიშნული პრობლემის შესახებ

3

მოძრაობის ზოლის შეუცვლელად შეანელოს სიჩქარე, გაჩერდეს და ჩართოს საავარიო შექსიგნალიზაცია. მოძრაობის აღდგენა დასაშვებია მხოლოდ მხედველობის სრულად აღდგენის შემდეგ

4

ჩართოს შორი განათების ღარები

დღის ნათელ დროს გზაზე მოძრავ ნებისმიერ მოტოციკლზე ჩართული უნდა იყოს:

1

მხოლოდ ახლო განათების ღარები

2

მხოლოდ შორი განათების ღარები

3

წინ ახლო განათების ერთი ღარი მაინც, ხოლო უკან - წითელი მამუეცი

4

მხოლოდ უკან - წითელი მამუეცი

დასაშვებია თუ არა სატრანსპორტო საშუალების კონსტრუქციის შეცვლა ან მისი აღჭურვა დამატებითი სინათლეებით?

1

არ არის დასაშვები

2

დასაშვებია მხოლოდ კანონმდებლობით გათვალისწინებული მოთხოვნების დაცვით

ჩართული ლურჯი მთელვარე სპეციალური ციმციმა სიგნალით მდგომ სპეციალური სამსახურის სატრანსპორტო საშუალებასთან მიახლოებისას, მძღოლმა უნდა:

1

განაგრძოს გზა სიჩქარის შეეცვლელად


2

შეანელოს სიჩქარე, რათა აუცილებლობის შემთხვევაში ჰქონდეს ტრანსპორტის დაეყოვნებლივ გაჩერების შესაძლებლობა

3

გაზარდოს სიჩქარე, რათა დროულად გაიაროს აღნიშნული ადგილი

ბილეთი N: 1013; სწორი პასუხი:3



ჩართული ახლო განათების ფარებით სატვირთო ავტომობილს მიაცილებს ოპერატიული სამსახურის ავტომობილი, ჩართული ლურჯი მთელფარე სპეციალური ციმციმა და ხმოვანი სიგნალებით. რომელი ავტომობილის მიმართ წარმოექმნება გზის დათმობის ვალდებულება ავტობუსის მძღოლს ისრის მიმართულებით მოძრაობის შემთხვევაში შექნიშნის ამ სიგნალზე?

- | | |
|---|--|
| 1 არცერთი ავტომობილის მძღოლის მიმართ | 2 მხოლოდ ოპერატიული ავტომობილის მძღოლის მიმართ |
| 3 როგორც ოპერატიული სამსახურის, ასევე სატვირთო ავტომობილების მძღოლების მიმართ | |

ბილეთი N: 1014; სწორი პასუხი:3



რომელი მიმართულებით მოძრაობის გაგრძელების უფლება აქვს ოპერატიული სამსახურის ავტომობილის მძღოლს შექნიშნის ამ სიგნალზე, თუ ავტომობილს ჩართული აქვს ლურჯი მთელფარე სპეციალური ციმციმა სიგნალი?

- | | |
|-------------------------------|--|
| 1 მხოლოდ პირდაპირ და მარჯვნივ | 2 მხოლოდ მარჯვნივ |
| 3 ყველა მიმართულებით | 4 მხოლოდ მარცხნივ და უკუმიმართულებით (მოხრუნება) |

ბილეთი N: 1015; სწორი პასუხი:2



ვალდებულია თუ არა წითელი ავტომობილის მძღოლი გზა დაუთმოს ოპერატიული სამსახურის ავტომობილის მძღოლს, თუ ავტომობილზე ჩართული არ არის ლურჯი მოელვარე სპეციალური ციმციმა და ხმოვანი სიგნალები?

1 ვალდებულია

2 არ არის ვალდებული

ბილეთი N: 1016; სწორი პასუხი:1



ოპერატიული სამსახურის ავტომობილს ჩართული აქვს ლურჯი მთელვარე სპეციალური ციმციმა და ხმოვანი სიგნალები. წითელი ავტომობილის შტაბი არ დაარღვევს საგზაო მოძრაობის წესებს, თუ:


- | | |
|--|--|
| 1 გაატარებს ყვითელ ავტომობილს და გადავა მარჯვნივ მდებარე ზოლში | 2 არ დაუთმოს გზას ყვითელ ავტომობილს და გადავა მარჯვნივ მდებარე ზოლში |
| 3 გააგრძელებს მოძრაობას დაგვიგებულ ზოლში | |

ბილეთი N: 1017; სწორი პასუხი:3



ოპერატიული სამსახურის ავტომობილი გაჩერებულია ჩართული ღურჯი მოედვარე სპეციალური ციმციმა სიგნალით. მსუბუქი ავტომობილის მძღოლმა უნდა იმოძრაოს არა უმეტეს:

- | | |
|---|----------------------------|
| 1 90 კმ/სთ სიჩქარით | 2 70 კმ/სთ სიჩქარით |
| 3 იმ სიჩქარით, რომლითაც ავტომობილის მძღოლმა დაუყოვნებლივ გაჩერების შესაძლებლობა ექნება | |



რა თანამიმდევრობით უნდა გაიარონ გზაჯვარედინი სატრანსპორტო საშუალებებმა ისრის მიმართულებით მოძრაობის შემთხვევაში, თუ ოპერატიულ ავტომობილს ჩართული აქვს ლურჯი მოელვარე სპეციალური ციმციმა და ხმოვანი სიგნალები?

- | | |
|---|---|
| <p>1 ჯერ უნდა გაიაროს რუხმა მსუბუქმა ავტომობილმა, შემდეგ - მოტოციკლმა, ბოლოს - ოპერატიული სამსახურის ავტომობილმა</p> | <p>2 ჯერ უნდა გაიაროს მოტოციკლმა, შემდეგ - ოპერატიული სამსახურის ავტომობილმა, ბოლოს - რუხმა მსუბუქმა ავტომობილმა</p> |
| <p>3 ჯერ უნდა გაიაროს ოპერატიული სამსახურის ავტომობილმა, შემდეგ - რუხმა მსუბუქმა ავტომობილმა, ბოლოს - მოტოციკლმა</p> | |

საგზაო-სატრანსპორტო შემთხვევის შედეგად დაზარებულის კანის საფარველისა და კუნთოვანი ქსოვილის დაზიანების შემთხვევაში, პირველადი სამედიცინო დახმარების აღმოჩენის მიზნით, მას უნდა:

1

ჭრილობაზე მოესხას იოდის ხსნარი

2

ჭრილობა გარშემო დამუშავდეს იოდის ხსნარით და დაედოს ბაქტერიციდული საფენი (მისი არ ქონის შემთხვევაში დაედოს სუფთა საფენი)

3

კუნთოვანი ქსოვილი გათავისუფლდეს უცხო სხეულებისაგან და დაედოს ბაქტერიციდული საფენი

ბილეთი N: 1025; სწორი პასუხი:1



რა თანამიმდევრობით უნდა გაიროს გზაჯვარედინი სატრანსპორტო საშუალებებმა ისრის მიმართულებით მოძრაობის შემთხვევაში, თუ ოპერატიულ ავტომობილს ჩართული არა აქვს ლურჯი მოელვარე სპეციალური ციმციმა სიგნალი?

- | | |
|---|---|
| <p>1 ჯერ უნდა გაიაროს მტოციკლმა, შემდეგ - მსუბუქმა ავტომობილმა, ბოლოს - ოპერატიული სამსახურის ავტომობილმა</p> | <p>2 ჯერ უნდა გაიაროს მსუბუქმა ავტომობილმა, შემდეგ - მტოციკლმა, ბოლოს - ოპერატიული სამსახურის ავტომობილმა</p> |
| <p>3 ჯერ უნდა გაიაროს ოპერატიული სამსახურის ავტომობილმა, შემდეგ - მსუბუქმა ავტომობილმა, ბოლოს - მტოციკლმა</p> | |


ბილეთი N: 1026; სწორი პასუხი:2



რა თანამიმდევრობით უნდა გაიროს გზაჯვარედინი სატრანსპორტო საშუალებებმა ისრის მიმართულებით მოძრაობის შემთხვევაში, თუ ოპერატიული სამსახურის ავტომობილს ჩართული აქვს ლურჯი მოელვარე სპეციალური ციმციმა და ხმოვანი სიგნალები?

- | | |
|--|--|
| <p>1 ჯერ უნდა გაიაროს მსუბუქმა ავტომობილმა, შემდეგ - მოტოციკლმა, ბოლოს - ოპერატიული სამსახურის ავტომობილმა</p> | <p>2 ჯერ უნდა გაიაროს ოპერატიული სამსახურის ავტომობილმა, შემდეგ - მსუბუქმა ავტომობილმა, ბოლოს - მოტოციკლმა</p> |
| <p>3 ჯერ უნდა გაიაროს მოტოციკლმა, შემდეგ - ოპერატიული სამსახურის ავტომობილმა, ბოლოს - მსუბუქმა ავტომობილმა</p> | |

ბილეთი N: 1043; სწორი პასუხი:3



სურათზე მითითებულ რომელ ადგილას გაჩერების შემთხვევაში დაარღვეს ბავშვთა ჯგუფის გადაყვანი ავტობუსის მძღოლი საგზაო მოძრაობის წესებს, თუ არ ჩართავს საავარიო შექსიგნალიზაციას?

- | | |
|-----------------------------|--------------------|
| 1 მხოლოდ A ადგილას | 2 მხოლოდ B ადგილას |
| 3 როგორც A, ასევე B ადგილას | |

აუცილებელია თუ არა საგზაო-სატრანსპორტო შემთხვევის შედეგად დაშავებულის კიდურებზე სისხლდენის შემჩერებელი ლასტის დადების ზუსტი დროის აღნიშვნა?

1

აუცილებელია

2

არ არის აუცილებელი



მოტოციკლის, ავტობუსის, მსუბუქი და სატვირთო ავტომობილების მართვა შეუძლია მხოლოდ იმ პირს:

1

რომლის ჯანმრთელობის მდგომარეობაც შეესაბამება საქართველოს კანონმდებლობით განსაზღვრულ სატრანსპორტო საშუალებათა მართვისთვის საჭირო ჯანმრთელობის მდგომარეობისადმი მოთხოვნებს

2

რომელსაც საქართველოს კანონმდებლობით დადგენილი წესით მიენიჭა შესაბამისი კატეგორიის ან/და ქვეკატეგორიის სატრანსპორტო საშუალების მართვის უფლება და ეს უფლება არ არის შეჩერებული ან შეწყვეტილი

3

რომელიც აკმაყოფილებს ამ ბილეთში ჩამოთვლილ ყველა პირობას

„A“ კატეგორიის სატრანსპორტო საშუალების მართვის უფლების მქონე პირს უფლება აქვს მართოს:

1

მხოლოდ უეტლო მოტოციკლი

2

მხოლოდ ის მოტოციკლი, რომლის ძრავის მუშა მოცულობა არ აღემატება 125 სმ³-ს, ხოლო მაქსიმალური სიმძლავრე - 11 კვტ-ს

3

ნებისმიერი სახის მოტოციკლი

“A1” ქვეკატეგორიის სატრანსპორტო საშუალების მართვის უფლების მქონე პირს, უფლება აქვს მართოს მოტოციკლი, რომლის ძრავას მუშა მოცულობა არ აღემატება 125 სმ³-ს, ხოლო სიმძლავრე და სიმძლავრის/წონის კოეფიციენტი:

1

11 კვტ-ს და 0,1 კვტ/კგ-ს

2

15 კვტ-ს და 0,8 კვტ/კგ-ს

3

18 კვტ-ს და 0,25 კვტ/კგ-ს

„A“ კატეგორიის სატრანსპორტო საშუალების მართვის უფლების მქონე პირს, აგრეთვე რომელი ქვეკატეგორიის სატრანსპორტო საშუალების მართვის უფლება აქვს?

1

„A1“

2

„A1“ და „B1“


3

„B1“

4

„D1“

ბილეთი N: 1136; სწორი პასუხი:3



რომელი მიმართულებით არის აკრძალული სასწავლო ავტომობილის მოძრაობა, თუ საჭესთან ზის მოსწავლე?

- | | |
|----------------------------------|-------------------------|
| 1 მხოლოდ A მიმართულებით | 2 მხოლოდ B მიმართულებით |
| 3 როგორც A, ასევე B მიმართულებით | |



I



II



III



IV

მთვემული საგზაო ნიშნებიდან რომელი მიუთითებს მოძრაობის მიმართულებას მხოლოდ პირდაპირ?

1

მხოლოდ II და IV

2

მხოლოდ I

3

მხოლოდ IV

4

მხოლოდ III

ბილეთი N: 1141; სწორი პასუხი:1



I



II



III



IV

მთვემული საგზაო ნიშნებიდან რომელი რთავს მოძრაობის ნებას მხოლოდ მარჯვენა მიმართულებით?

1

2

3

4



მთვემული საგზაო ნიშანი მითითებს:

1

ცალმხრივმობილან გზაზე ან საგალ ნაწილზე გასვლას

2

გამყოფი ზოლის, უსაფრთხოების კუნძულის ან რაიმე დაბრკოლების შემოვლის მიმართულებას მხოლოდ მარჯვნიდან

3

ცალმხრივ მოძრაობიან გზას

ბილეთი N: 1146; სწორი პასუხი:2



I



II



III



IV

მოცემული საგზაო ნიშნებიდან რომელი მიუთითებს გამყოფი ზოლის, უსაფრთხოების კენჭულის ან რაიმე დაბრკოლების შემთხვევის მიმართულებას მხოლოდ მარცხნიდან?

1

2

3

4

ბილეთი N: 1148; სწორი პასუხი:1



I



II



III



IV

მთვემული საგზაო ნიშნებიდან რომელი აღნიშნავს მოძრაობის მიმართულებას მარჯვნივ ან მარცხნივ?

1

2

3

4

ბილეთი N: 1154; სწორი პასუხი:2



რომელი ავტომობილის მძღოლი დაარღვევს საგზაო მოძრაობის წესებს ისრის მიმართულებით მოძრაობის შემთხვევაში, თუ ისინი შედიან ეზოს ტერიტორიაზე?

- | | | | |
|---|--------------------------|---|----------------------------|
| 1 | თეთრი ავტომობილის მძღოლი | 2 | ყვითელი ავტომობილის მძღოლი |
| 3 | ორივე ავტომობილის მძღოლი | 4 | არცერთი ავტომობილის მძღოლი |

ბილეთი N: 1155; სწორი პასუხი:4



- | | |
|-------------------------------|-------------------------------|
| 1 მხოლოდ პირდაპირ და მარჯვნივ | 2 მხოლოდ პირდაპირ და მარჯვნივ |
| 3 მხოლოდ პირდაპირ | 4 ყველა მიმართულებით |


ბილეთი N: 1156; სწორი პასუხი:1



მსუბუქი ავტომობილის მძღოლს მოძრაობის გააგრძელების უფლება აქვს:

- | | |
|------------------------|-------------------|
| 1 მხოლოდ პირდაპირ | 2 მხოლოდ მარჯვნივ |
| 3 პირდაპირ და მარჯვნივ | |


ბილეთი N: 1157; სწორი პასუხი:3



მსუბუქი ავტომობილის მძღოლს მოძრაობის გაგრძელების უფლება აქვს:

- | | |
|---|--------------------------------------|
| 1 მხოლოდ მარცხნივ | 2 მხოლოდ უკემიმართულებით (მობრუნება) |
| 3 მარცხნივ და უკემიმართულებით (მობრუნება) | |

ბილეთი N: 1161; სწორი პასუხი:1



მოცემულ სიტუაციაში, ეკრძალება თუ არა მსუბუქი ავტომობილის მძღოლს ისრის მიმართულებით მობრუნება?


1

ეკრძალება

2

არ ეკრძალება

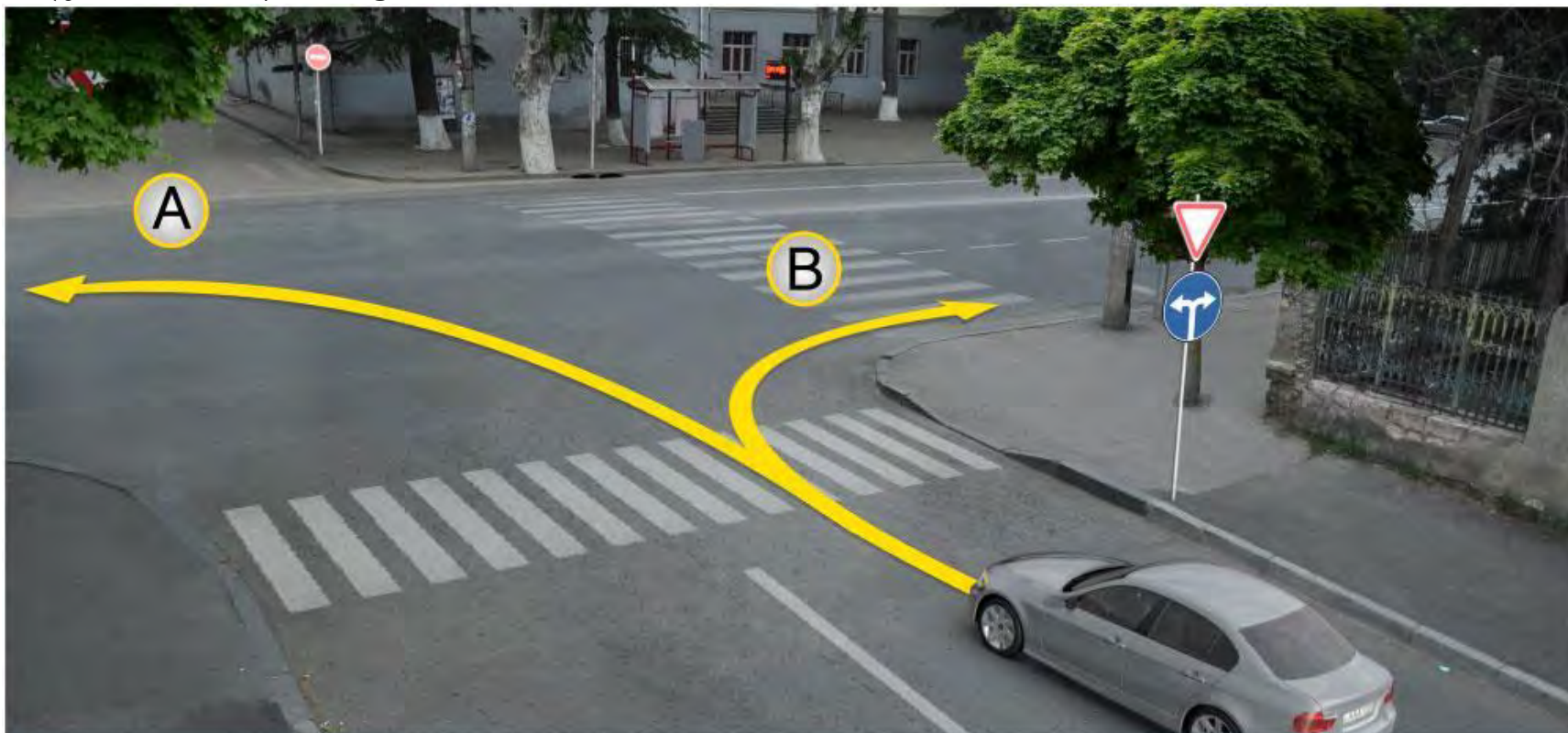
ბილეთი N: 1163; სწორი პასუხი:1



რომელი სატრანსპორტო საშუალების მძღოლი არ დაარღვევს საგზაო მოძრაობის წესებს ისრის მიმართულებით მოძრაობის შემთხვევაში?

- | | |
|--|----------------------------|
| 1 მხოლოდ მსუბუქი ავტომობილის მძღოლი | 2 მხოლოდ მოტოციკლის მძღოლი |
| 3 ორივე სატრანსპორტო საშუალების მძღოლი | |

ბილეთი N: 1164; სწორი პასუხი:3



მოცემულ სიტუაციაში, მსუბუქი ავტომობილის მძღველს მოძრაობის გააგრძელების უფლება აქვს:

- | | |
|----------------------------------|-------------------------|
| 1 მხოლოდ A მიმართულებით | 2 მხოლოდ B მიმართულებით |
| 3 როგორც A, ასევე B მიმართულებით | |



I



II



III



IV

მოცემული საგზაო ნიშნებიდან რომელის მოქმედების ზონაში არ არის აკრძალული მობრუნება?

1

მხოლოდ II და IV

2

მხოლოდ I და III

3

მხოლოდ III და IV

4

მხოლოდ II და III

ბილეთი N: 1171; სწორი პასუხი:2



I



II



III



IV

მთვემული საგზაო ნიშნებიდან რომელი იძლევა ინფორმაციას პირველადი სამედიცინო დახმარების პუნქტის შესახებ?

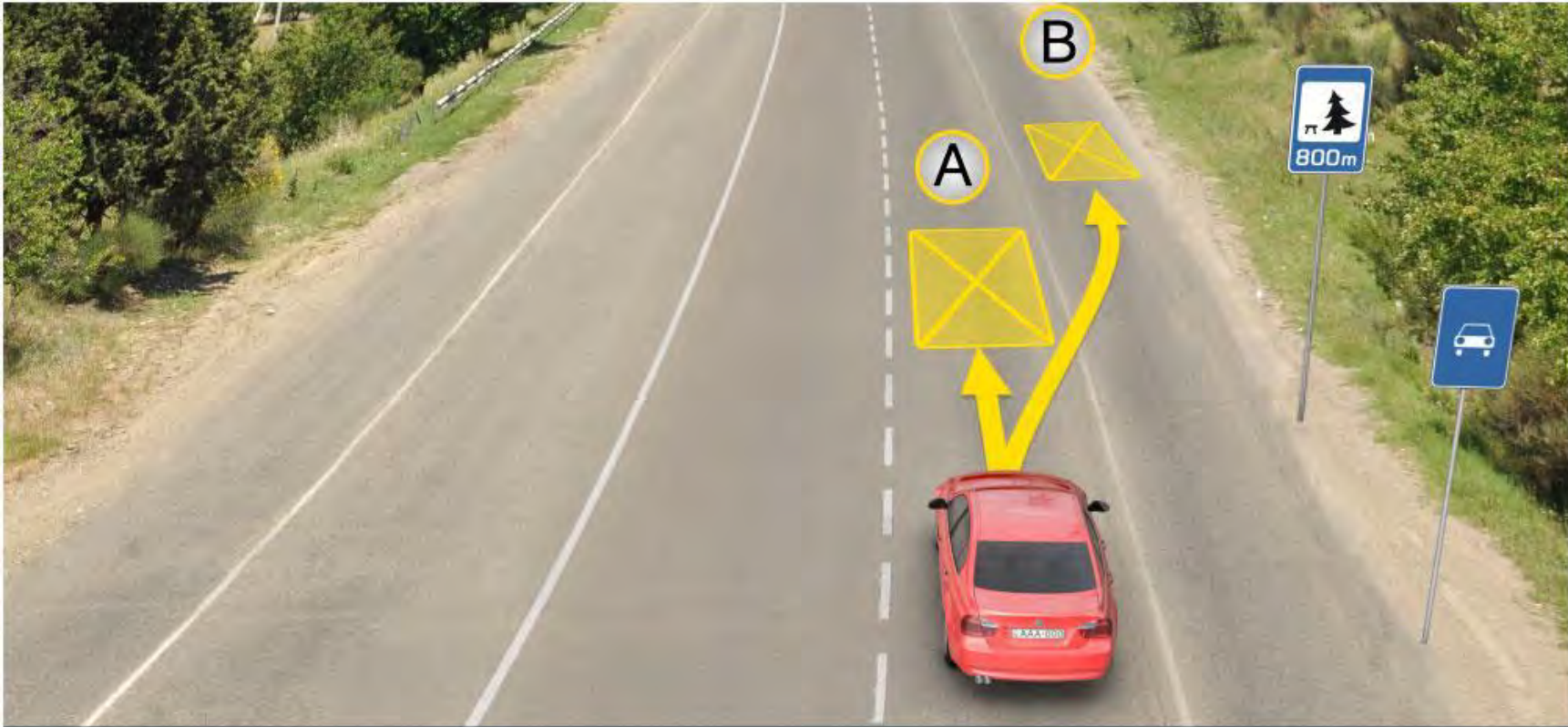
1

2

3

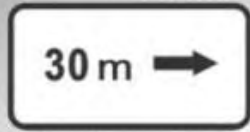
4

ბილეთი N: 1191; სწორი პასუხი:3

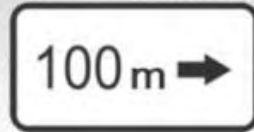


მოცემულ სიტუაციაში, მძღოლს უფლება აქვს ხანგრძლივი დასვენების შიზნით ავტომობილი დააყენოს:

- | | |
|---|-------------|
| 1 A ადგილას | 2 B ადგილას |
| 3 800 მეტრში სპეციალურად გამოყოფილ ადგილას ან გზის თარგლებს მიღმა | |




I



II



III



IV

მოცემული დამატებითი ინფორმაციის ნიშნებიდან (დატეხიდან) რომელი მოუთითებს მანძილს გზის მიღმა (მომორებით) მდებარე ობიექტამდე?

1 მხოლოდ II და III

2 მხოლოდ I და IV

3 მხოლოდ IV

4 მხოლოდ III

ბილეთი N: 1200; სწორი პასუხი:2



I



II



III

მოცემული დაფებიდან რომელი მიუთითებს დგომის ამკრძალავი ნიშნის მოქმედების ზონის დასასრულზე?

1

2

3

ბილეთი N: 1204; სწორი პასუხი:2



I



II



III

მოცემული დამატებითი ინფორმაციის ნიშნებიდან (დაფებიდან) რომელი მუთითებს გზაჯვარედინის წინ დადგმული ნიშნის მოქმედების მიმართულებას ან მოძრაობის მიმართულებას, უშუალოდ გზასთან მდებარე აღნიშნული ობიექტისაკენ?

1

მხოლოდ I და III

2

მხოლოდ I

3

მხოლოდ II


4

მხოლოდ III

ბილეთი N: 1210; სწორი პასუხი:2



I



II



III



IV

მოცემული საგზაო ნიშნების კომბინაციიდან რომლის მოქმედება ვრცელდება შაბათ-კვირას და სადღესასწაულო დღეებში?

1

მხოლოდ III

2

მხოლოდ I და IV

3

მხოლოდ II და III

4

მხოლოდ I



მოცემული საგზაო ნიშნების კომბინაცია მძღოლს მიუთითებს, რომ გასწრება აკრძალულია:

1

დღე-ღამის ბნელ დროს

2

ღრუბლიან ამინდში

3

როცა გზის საგზაო ნაწილის საფარი სველია



I



II



III

რომელი საცნობი ნიშანი მაგრდება იმ მექანიკური სატრანსპორტო საშუალების წინა და უკანა მხარეს, რომელსაც სმენადაქვეითებული მძღოლი მართავს?

1

მხოლოდ III

2

მხოლოდ II

3

მხოლოდ I



I



II



III



IV

მონიშნული საგზაო ნიშნებიდან რომელი იძლევა ინფორმაციას საქართველოს გზებზე დადგენილი სიჩქარის ზოგადი შეზღუდვების შესახებ?

1

2

3

4

ბილეთი N: 1231; სწორი პასუხი:3



I



II



III



IV

მოცემული საგზაო ნიშნებიდან რომელი მითითებს სიჩქარეს, რომლითაც რეკომენდებულია მოძრაობა გზის მოცემულ მონაკვეთზე?

1

2

3

4



I



II



III



IV

მოცემული საგზაო ნიშნებიდან რომლის მოქმედების ზონაში არ არის ნებადართული მარცხნივ მოხვევა?

1

მხოლოდ III

2

მხოლოდ IV

3

მხოლოდ II და IV

4

მხოლოდ II

ბილეთი N: 1242; სწორი პასუხი:3



მოცემული საგზაო ნიშნები მძღოლს აწვდის ინფორმაციას, რომ ნიშნის დადგმის ადგილიდან წინ:

- | | |
|---|--|
| 1 400 მეტრის მანძილზე უსწორმასწორო გზაა, სადაც რეკომენდებულია მოძრაობა 30 კმ/სთ-ში სიჩქარით | 2 400 მეტრის შემდეგ იწყება უსწორმასწორო გზა, სადაც რეკომენდებულია მოძრაობა 30 კმ/სთ-ში სიჩქარით |
| 3 150-300 მეტრის შემდეგ იწყება 400 მეტრის სიგრძის უსწორმასწორო გზა, სადაც რეკომენდებულია მოძრაობა 30 კმ/სთ-ში სიჩქარით | |



მოცემული საგზაო ნიშანი მძღოლს მიუთითებს, რომ ნიშნების დადგმის ადგილიდან წინ:

1

300 მეტრის მანძილზე მოძრაობა ავრცალებულია 50 კმ/სთ მეტი სიჩქარით

2

300 მეტრის შემდეგ მოძრაობა ავრცალებულია 50 კმ/სთ მეტი სიჩქარით



მოცემული საგზაო ნიშნების კომბინაცია მძღოლს მიუთითებს, რომ ნიშნების დადგმის ადგილიდან წინ:


1

300 მეტრის მანძილზე მოძრაობა ნებადართულია, არაუმეტეს 50 კმ/სთ სიჩქარით

2

300 მეტრის შემდეგ მოძრაობა ნებადართულია, არაუმეტეს 50 კმ/სთ სიჩქარით


ბილეთი N: 1248; სწორი პასუხი:1



მოცემულ სიტუაციაში, რომელ მძღოლს ეკრძალება ისრის მიმართულებით სატრანსპორტო საშუალების მობრუნება?

- | | |
|--|-----------------------------------|
| 1 მხოლოდ მოტოციკლის მძღოლს | 2 მხოლოდ თეთრი ავტომობილის მძღოლს |
| 3 არცერთი სატრანსპორტო საშუალების მძღოლს | |

ბილეთი N: 1252; სწორი პასუხი:1



დაარღვევს თუ არა მსუბუქი ავტომობილის მძღოლი საგზაო მოძრაობის წესებს, ისრის მიმართულებით მოძრაობის შემთხვევაში?

1

დაარღვევს

2

არ დაარღვევს

ბილეთი N: 1255; სწორი პასუხი:1



გზის სავალ ნაწილზე დატანილი ყვითელი მონიშვნა აღნიშნავს:

1

სამარშრუტო სატრანსპორტო საშუალების გაჩერებისა და ტაქსის სადგომს

2

ხაგრძლივი დასვენებისთვის დგომის ადგილს

ბილეთი N: 1256; სწორი პასუხი:2



გზის სავალ ნაწილზე დატანილი განივი მონიშვნა აღნიშნავს ადგილს, სადაც:

1

ქვეითთა ბილვი გვეთს გზის სავალ ნაწილს

2

საველოსიპედო ბილვი გვეთს გზის სავალ ნაწილს

ბილეთი N: 1257; სწორი პასუხი:3



გზის სავალ ნაწილზე დატანილი ორმაგი წყვეტილი ხაზი აღნიშნავს:

- | | |
|--|---|
| 1 გზაჯვარედინზე სავალსივლით ბილივებს | 2 ადგილს, სადაც მძღოლი აუცილებლობის შემთხვევაში უნდა გაჩერდეს |
| 3 რევერსულად მოწესრიგებული მოძრაობის ზოლების საზღვრებს | |

ბილეთი N: 1259; სწორი პასუხი:3



გზის სავალ ნაწილზე დატანილი წარწერა "BUS" აღნიშნავს სპეციალურ ზოლს, რომელიც განკუთვნილია:

- | | | | |
|---|---|---|----------------------------------|
| 1 | ნელმავალი სატრანსპორტო საშუალებებისათვის | 2 | ველოსიპედებისა და მოპედებისათვის |
| 3 | სამარშრუტო სატრანსპორტო საშუალებებისათვის | | |


ბილეთი N: 1260; სწორი პასუხი:2



გზის სავალ ნაწილზე სავალი მოძრაობის ზოლის შუაში დატანილი ისრის ფორმის მონიშვნა აფრთხილებს:

- 1 სახილათო მოსახვევიან გზის მონაკვეთთან მიახლოების თაობაზე
- 2 სავალი ნაწილის შევიწროებასთან, მონაკვეთთან, სადაც მცირდება მოცემული მიმართულებით მოძრაობის ზოლების რაოდენობა მიახლოების შესახებ

ბილეთი N: 1282; სწორი პასუხი:3



რა მიმართულებით შეიძლება გააგრძელოს მოძრაობა მსუბუქი ავტომობილის მძღოლმა თუ მარეგულირებელი კონკრეტულად მიუთითებს მოძრაობას მარცხნივ?

- | | |
|--|----------------------|
| 1 მხოლოდ პირდაპირ | 2 მხოლოდ მარცხნივ |
| 3 მხოლოდ მარცხნივ და უკუმიმართულებით (მობრუნება) | 4 ყველა მიმართულებით |

არტამანის დასამზადებელი მასალის არარსებობისას საგზაო-სატრანსპორტო შემთხვევის შედეგად დაზარალებულის ხელის ძვლის მოტეხილობის შემთხვევაში, მას უნდა:

1

გასწორებული ხელი ბინტის დახვევით მიფემაგროთ ტანზე

2

იდაყვში მოხრილი ხელი ჩამოგვიდოთ კისერზე და ბინტის დახვევით მიფემაგროთ ტანზე

სატრანსპორტო სამუალება გადაყირაგების წინააღმდეგ უფრო მდგრადია, თუ მისი სიმძიმის ცენტრი მდებარეობს:

- 1 დაბლა
- 2 მაღლა



სატრანსპორტო საშუალების მოძრაობის სიჩქარის გაზრდისას საბურავის გზასთან ჩაჭიდების ძალა:

1

იზრდება

2

მცირდება

3

არ იცვლება

მოთმცემებისა და მოპედების ექსპლუატაცია აკრძალულია, თუ საბურავის პროტექტორის დარჩენილი სიმაღლე:

- 1 0,8 მმ-ზე ნაკლებია
- 2 0,8 მმ-ზე მეტია, მაგრამ 1,6 მმ-ზე ნაკლებია
- 3 1,6 მმ-ზე მეტია, მაგრამ 2 მმ-ზე ნაკლებია

თუ სატრანსპორტო საშუალება უახლოვდება ტროტუარზე მოთამაშე ბავშვებს, მძღოლმა უნდა:

1

ბავშვებზე ყურადღების მოექცევადად გააგრძელოს მოძრაობა რათა არ შეუმნას დაბრკოლება მის უკან მოძრავ სატრანსპორტო საშუალებებს

2

მისცეს მხოლოდ ხმოვანი სიგნალი და შეუფერხებლად გააგრძელოს მოძრაობა

3

შეანელოს სიჩქარე და მზად იყოს დამუხრუჭებისთვის

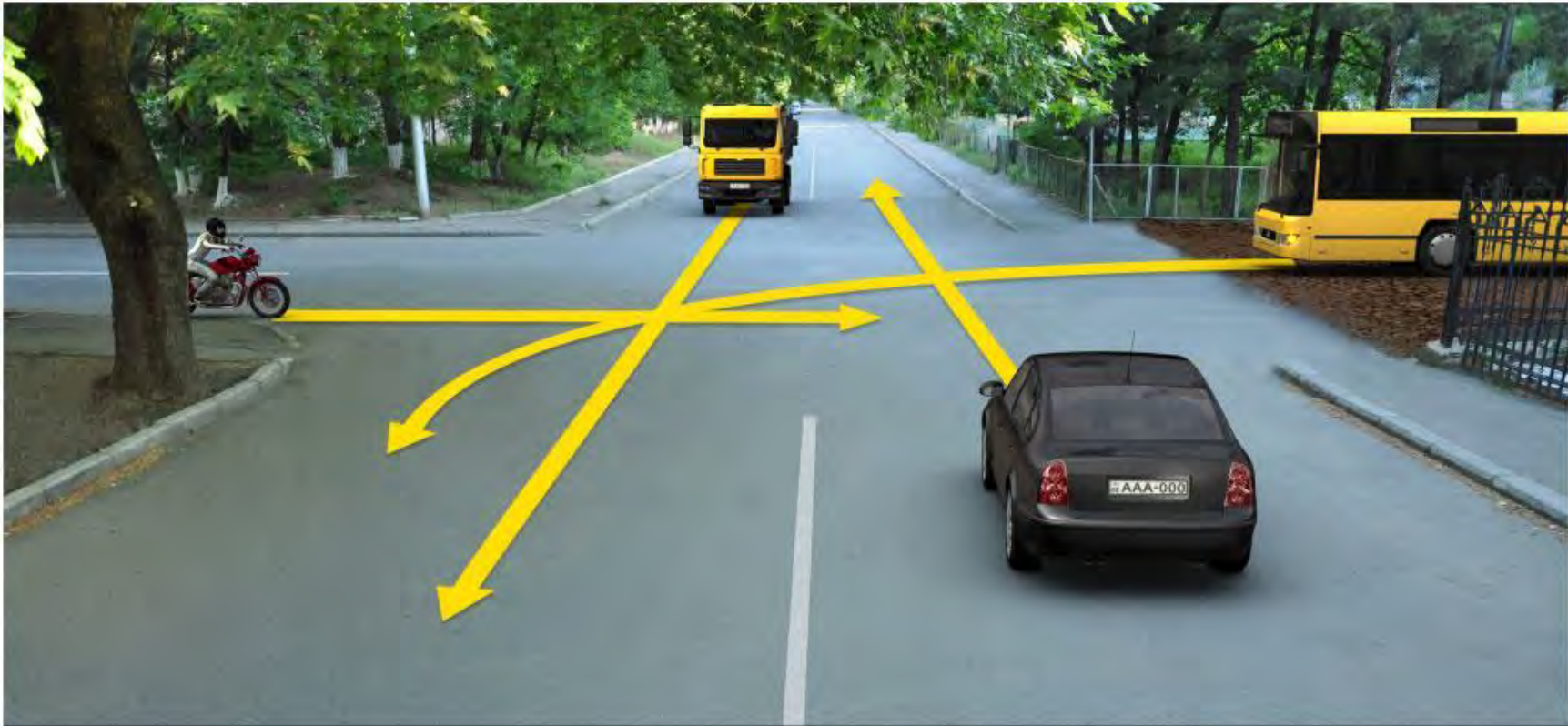
ბილეთი N: 1586; სწორი პასუხი:3



რომელი ავტომობილის მძღოლის მიმართ წარმოექმნება გზის დათმობის ვალდებულება მოტოციკლის მძღოლს ისრის მიმართულებით მოძრაობის შემთხვევაში?

- | | |
|--|---|
| 1 მხოლოდ ავტობუსის მძღოლის მიმართ | 2 მხოლოდ მსუბუქი ავტომობილის მძღოლის მიმართ |
| 3 როგორც ავტობუსის მძღოლის, ასევე მსუბუქი ავტომობილის მძღოლის მიმართ | |

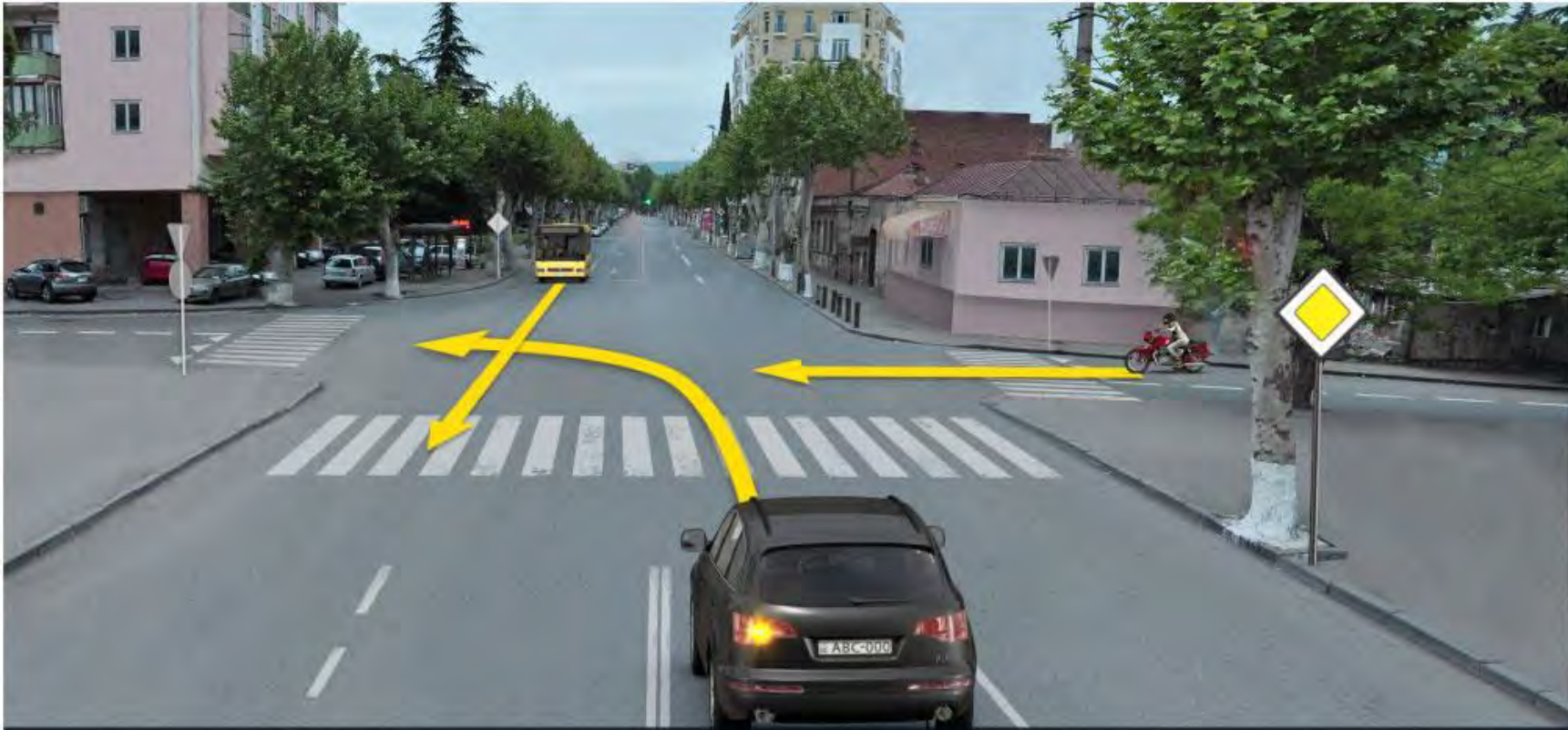
ბილეთი N: 1596; სწორი პასუხი:1



რომელი სატრანსპორტო საშუალების მძღოლის მიმართ წარმოექმნება გზის დათმობის ვალდებულება მოტოციკლის მძღოლს ისრის მიმართულებით მოძრაობის შემთხვევაში, თუ გზაჯვარედინის მარჯვენა მხრიდან შემომავალი გზის საფარი გრუნტოვანია?

- | | |
|--|---|
| 1 მხოლოდ მსუბუქი ავტომობილის მძღოლის მიმართ | 2 მხოლოდ ავტობუსის და სატვირთო ავტომობილის მძღოლების მიმართ |
| 3 როგორც ავტობუსის, ასევე მსუბუქი და სატვირთო ავტომობილების მძღოლების მიმართ | |

ბილეთი N: 1598; სწორი პასუხი:3



რომელი ავტომობილის მძღოლის მიმართ წარმოექმნება გზის დათმობის ვალდებულება მოტოციკლის მძღოლს ისრის მიმართულებით მოძრაობის შემთხვევაში?

- | | |
|--|---|
| 1 მხოლოდ ავტობუსის მძღოლის მიმართ | 2 მხოლოდ მსუბუქი ავტომობილის მძღოლის მიმართ |
| 3 როგორც ავტობუსის, ასევე მსუბუქი ავტომობილის მძღოლების მიმართ | |

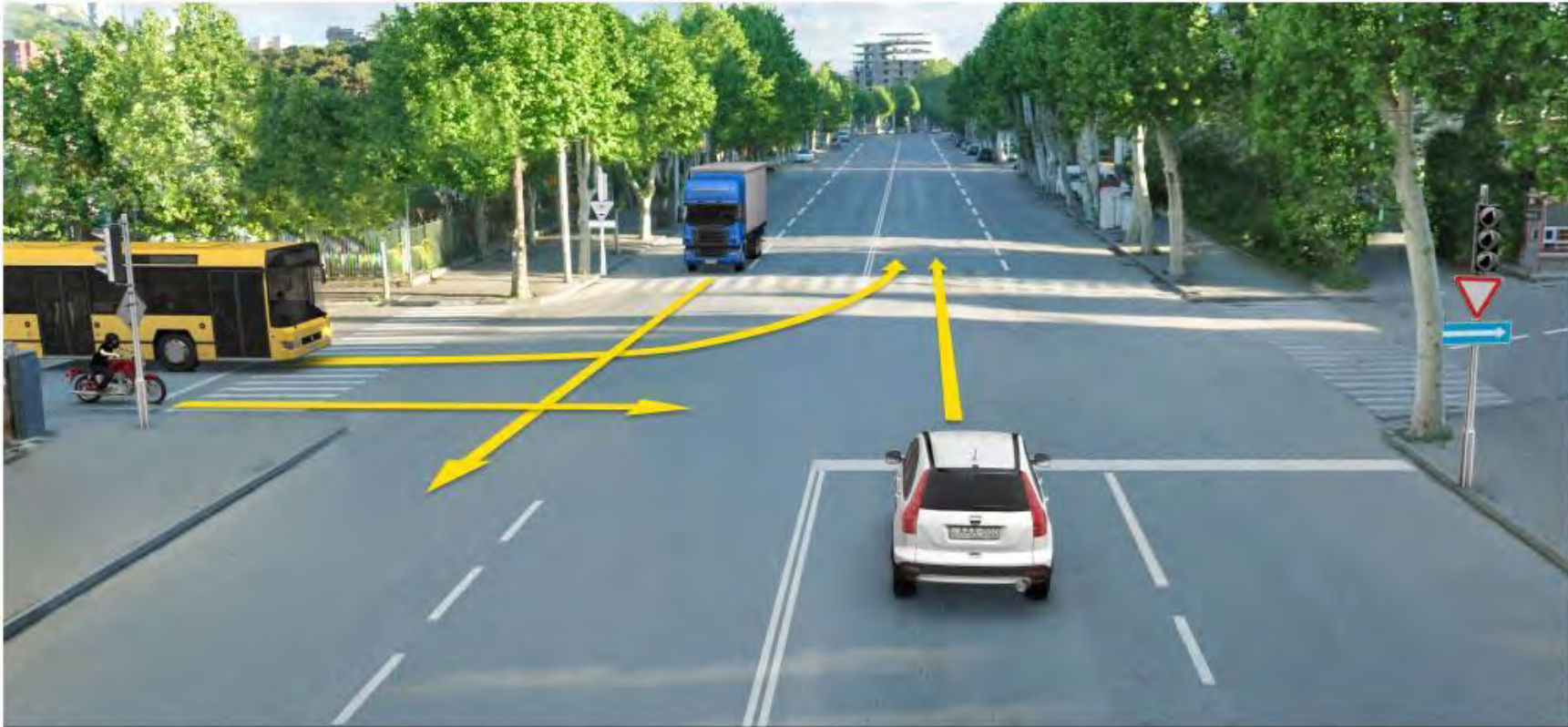
ბილეთი N: 1600; სწორი პასუხი:2



რომელი ავტომობილის მძღოლის მიმართ წარმოექმნება გზის დათმობის ვალდებულება მთავარი ავტომობილის მძღოლის ისრის მიმართულებით მოძრაობის შემთხვევაში?

- | | |
|--|---|
| 1 მხოლოდ ავტომობილის მძღოლის მიმართ | 2 მხოლოდ ლურჯი მსუბუქი ავტომობილის მძღოლის მიმართ |
| 3 მხოლოდ თეთრი და ლურჯი მსუბუქი ავტომობილების მძღოლების მიმართ | |


ბილეთი N: 1611; სწორი პასუხი:3



რომელი ავტომობილის მძღოლის მიმართ წარმოექმნება გზის დათმობის ვალდებულება მოტოციკლის მძღოლს ისრის მიმართულებით მოძრაობის შემთხვევაში?

- | | |
|--|---|
| 1 მხოლოდ სატვირთო ავტომობილის მძღოლის მიმართ | 2 მხოლოდ მსუბუქი ავტომობილის მძღოლის მიმართ |
| 3 არცერთი ავტომობილის მძღოლების მიმართ | |

ბილეთი N: 1614; სწორი პასუხი:3



რომელი სატრანსპორტო საშუალების მძღოლის მიმართ წარმოექმნება გზის დათმობის ვალდებულება მოტოციკლის მძღოლს ისრის მიმართულებით მოძრაობის შემთხვევაში?

- | | |
|---|--|
| 1 მხოლოდ ტრამვაის მძღოლის მიმართ | 2 მხოლოდ მსუბუქი ავტომობილის მძღოლის მიმართ |
| 3 როგორც ტრამვაის, ასევე მსუბუქი ავტომობილის მძღოლების მიმართ | 4 არცერთი სატრანსპორტო საშუალების მძღოლების მიმართ |


ბილეთი N: 1615; სწორი პასუხი:3



რომელი სატრანსპორტო საშუალების მძღოლის მიმართ წარმოექმნება გზის დათმობის ვალდებულება მოტოციკლის მძღოლს ისრის მიმართულებით მოძრაობის შემთხვევაში?

- | | | | |
|---|---|---|--|
| 1 | მხოლოდ ტრამვაის და მსუბუქი ავტომობილის მძღოლების მიმართ | 2 | მხოლოდ ავტობუსის მძღოლის მიმართ |
| 3 | არცერთი სატრანსპორტო საშუალების მძღოლების მიმართ | 4 | როგორც ავტობუსის, ასევე ტრამვაის და მსუბუქი ავტომობილის მძღოლების მიმართ |

ბილეთი N: 1619; სწორი პასუხი:1



რომელი ავტომობილის მძღოლის მიმართ წარმოექმნება გზის დათმობის ვალდებულება მთავიკლის მძღოლს ისრის მიმართულებით მოძრაობის შემთხვევაში?

- | | |
|---|--|
| 1 მხოლოდ ყვითელი ავტომობილის მძღოლის მიმართ | 2 მხოლოდ წითელი ავტომობილის მძღოლის მიმართ |
| 3 როგორც ყვითელი, ასევე წითელი ავტომობილის მძღოლების მიმართ | |


ბილეთი N: 1629; სწორი პასუხი:2



რომელი ავტომობილის მძღოლის მიმართ წარმოექმნება გზის დათმობის ვალდებულება მოტოციკლის მძღოლს ისრის მიმართულებით მოძრაობის შემთხვევაში?

- | | |
|---|--|
| 1 მხოლოდ მსუბუქი ავტომობილის მძღოლის მიმართ | 2 მხოლოდ სატვირთო ავტომობილის მძღოლის მიმართ |
| 3 როგორც მსუბუქი, ასევე სატვირთო ავტომობილის მძღოლების მიმართ | |


ბილეთი N: 1631; სწორი პასუხი:1



რომელი ავტომობილის მძღოლის მიმართ წარმოექმნება გზის დათმობის ვალდებულება მოტოციკლის მძღოლს ისრის მიმართულებით მოძრაობის შემთხვევაში?

- | | |
|--|---|
| 1 მხოლოდ ავტობუსის მძღოლის მიმართ | 2 მხოლოდ მსუბუქი ავტომობილის მძღოლის მიმართ |
| 3 როგორც ავტობუსის, ასევე მსუბუქი ავტომობილის მძღოლების მიმართ | |

ბილეთი N: 1634; სწორი პასუხი:3



რომელი ავტომობილის მძღოლის მიმართ სარგებლობს უპირატესობით მოტოციკლის მძღოლი ისრის მიმართულებით მოძრაობის შემთხვევაში?

- | | |
|--|---|
| 1 მხოლოდ ავტობუსის მძღოლის მიმართ | 2 მხოლოდ მსუბუქი ავტომობილის მძღოლის მიმართ |
| 3 როგორც ავტობუსის, ასევე მსუბუქი ავტომობილის მძღოლების მიმართ | |

ბილეთი N: 1638; სწორი პასუხი:3



რომელი ავტომობილის მძღოლის მიმართ წარმოექმნება გზის დათმობის ვალდებულება მთავრის მძღოლის ისრის მიმართულებით მოძრაობის შემთხვევაში?

- | | |
|--|--|
| 1 მხოლოდ ავტობუსის და მსუბუქი ავტომობილის მძღოლების მიმართ | 2 მხოლოდ სატვირთო ავტომობილის მძღოლის მიმართ |
| 3 არცერთი ავტომობილის მძღოლების მიმართ | |


ბილეთი N: 1643; სწორი პასუხი:3



რომელი ავტომობილის მძღოლის მიმართ წარმოექმნება გზის დათმობის ვალდებულება მთავრეკლეს მძღოლს ისრის მიმართულებით მოძრაობის შემთხვევაში?

- | | |
|--|---|
| 1 მხოლოდ წითელი ავტომობილის მძღოლის მიმართ | 2 მხოლოდ ლურჯი ავტომობილის მძღოლის მიმართ |
| 3 არცერთი ავტომობილის მძღოლების მიმართ | |

ბილეთი N: 1645; სწორი პასუხი:3



რომელი ავტომობილის მძღოლის მიმართ წარმოექმნება გზის დათმობის ვალდებულება მტოციკლის მძღოლს ისრის მიმართულებით მოძრაობის შემთხვევაში?

- | | |
|---|-----------------------------------|
| 1 არცერთი ავტომობილის მძღოლების მიმართ | 2 მხოლოდ ავტობუსის მძღოლის მიმართ |
| 3 მხოლოდ მსუბუქი ავტომობილის მძღოლის მიმართ | |

სად შეიძლება ბარგის განთავსება მობილურებზე?

1

მობილურების საბარგო ჩანთაში ან საბარგულზე

2

მობილურების საწვავის ავზზე

3

მობილურების საჯის მარჯვენა და მარცხენა მხარეს, თანამხრად გადანაწილებით

ძირითად საყრდენზე მოტოვიკლის დაყენებისას, ყურადღება უნდა მიექცეს შემდეგ გარემოებას:

1

ძირითადი საყრდენის ქვეშ საღარი უნდა იყოს მყარი

2

ძირითად საყრდენზე დაყენება შეიძლება განხორციელდეს, მხოლოდ ხანმოკლე დროით

როდის წარმოიქმნება მოტოციკლის გვერდით გადაადგილების (გადაწევის) საფრთხე მაღალი სიჩქარით მოძრაობისას?

1

მხოლოდ ავტომატარებლის გადასწრებისას

2

მხოლოდ ძლიერი გვერდითი ქარის არსებობისას

3

მხოლოდ იმ შემთხვევაში, თუ დამუხრუჭებისას წინა თვლის ორივე სამუხრუჭე დისკის მოქმედება განსხვავდება ერთმანეთისაგან

4

ამ ბილეთში ჩამოთვლილი ნებისმიერი გარემოების არსებობისას

მოტოციკლის მძღოლის მიერ მკვეთრი ღერების ტასაცმლით სარგებლობის შემთხვევაში:

1

იგი უკეთესად შესამჩნევი ხდება საგზაო მოძრაობის სხვა მონაწილეებისათვის

2

იგი არ არის ვალდებული დღის ნათელ დროს გზაზე მოძრაობისას მოტოციკლებზე წინ ჩართული ქონდეს ახლო განათების ღარა

3

იგი არ არის ვალდებული გადაადგილებისას გამოიყენოს მოტოჩაფხუტი

მოტორაფხუტზე ბზარის გაჩენის შემთხვევაში, მძღოლმა უნდა:

- 1 მოტორაფხუტის ქვეშ დაიხუროს ნაჭრის ქუდი
- 2 ბზარი დაანებოს და მოტორაფხუტი გადადებოს
- 3 შეიძინოს ახალი მოტორაფხუტი, რადგან ძველი ვეღარ უზრუნველყოფს დაცვას

გზაზე მყოფ ძაღლის სიახლოვეს გამაგებლმა მოტოციკლის მძღოლმა უნდა:

1

გაითვალისწინოს რომ ყველა ძაღლს ეშინია მოძრავი სატრანსპორტო საშუალების, რის გამოც იგი აგრესიას არ გამოამჟღავნებს

2

გამოიჩინოს განსაკუთრებული სიფრთხილე, რადგან ძაღლმა შესაძლოა გამოამჟღავნოს აგრესია და გამოიწიოს მისი მიმართულებით

ასფალტის საფარის მქონე გზიდან ღორღიან გზაზე გასვლისას, მოტოციკლის მძღოლმა უნდა:

1

შენევიტოს მოძრაობა, რადგან ღორღიან გზაზე აკრძალულია მოტოციკლით მოძრაობა

2

გაზარდოს მოძრაობის სიჩქარე, რათა ნაკლებად საგრძნობი გახდეს გზის საფარის გავლენა საჭეზე

3

შეარჩიოს შესაბამისი მოძრაობის სიჩქარე და მოერიდოს მკვეთრ მოძრაობებს

მოტოციკლის საბურავებში დაბალმა ჰაერის წნევამ შეიძლება გამოიწვიოს:

1

მხოლოდ პროტექტორის კიდეების არათანაბარი ცვეთა

2

მხოლოდ მოტოციკლის მართვადობის გაუარესება

3

ამ ბილეთში ჩამოთვლილი ნებისმიერი გარემოება

შესაძლებელია თუ არა, ავტომატარებლის მოძრაობისაგან გამონვეულმა ჰაერის ტალღამ დაბრკოლება შეუქმნას მოტოციკლის მართვას?

1

შესაძლებელია, მხოლოდ იმ შემთხვევაში, თუ ავტომატარებელი მოძრაობს საპირისპირო მიმართულებიდან

2

შესაძლებელია, მხოლოდ იმ შემთხვევაში, თუ ავტომატარებელი ახორციელებს თანმხვედრი მიმართულებით მოტოციკლის გასწრებას

3

შესაძლებელია ამ ბილეთში ჩამოთვლილი ნებისმიერი გარემოების არსებობისას